


Lundi - Français

Curitiba, le 1^{er} avril 2024

Thème : Poisson d'avril


1. Le 1^{er} avril : poisson d'avril ! Colorie le dessin selon le code.



- 1 - bleu foncé 4 - vert foncé 7 - marron
- 2 - bleu clair 5 - vert clair 8 - beige
- 3 - rouge 6 - gris 9 - jaune

anexo

2. Colle le texte dans ton cahier et lis-le :




Le 1^{er} avril. Tu peux t'amuser à coller des poissons en papier sur le dos de tes copains. Les parents français vont peut-être découvrir dans leurs journaux une histoire abracadabrante, qu'ils vont croire, mais qui est en fait un énorme canular.


Mais d'où vient cette tradition de faire des blagues le 1^{er} avril ? Il y a très très longtemps, l'année ne commençait pas le 1^{er} janvier mais le 1^{er} avril. Les gens s'offraient des cadeaux pour fêter la nouvelle année. Quand le roi a décidé de changer le calendrier, ils ont continué à fêter le 1^{er} avril, mais avec de faux cadeaux ! Depuis, le 1^{er} avril est devenu la journée des farces et des canulars.

anexo

Português

Leia os quadrinhos a seguir para realizar as lições de Português da semana.






Segunda-feira

Curitiba, 1º de abril de 2024.

Copie e responda.

- 1) O que representa a palavra "clic" que aparece em muitos dos quadrinhos?
- 2) Pinte somente os animais que foram fotografados por Marina.



Anexo

Terça-feira

Curitiba, 2 de abril de 2024.

Copie e responda.

- 1) Quem é a personagem principal da história? Por quê?
- 2) Invente outro título para a história em quadrinhos.

Quarta-feira

Curitiba, 3 de abril de 2024.

Copie e responda.

No penúltimo quadrinho, a menina loira diz: "Será que ela desistiu de ser desenhista? "
Explique o que significa desistir, caso não saiba, procure no dicionário.

Quinta-feira

Curitiba, 4 de abril de 2024.

Copie e responda.

Por que Marina tira tantas fotografias se é conhecida pela turma por gostar de desenhar?

Sexta-feira/HISTÓRIA


Curitiba, 5 de abril de 2024.

Tema: **Monarquia romana**

Leia e faça o que se pede.

Agora é sua vez de ser um monarca (um rei ou rainha)! Escolha e escreva um nome para seu reino, depois anote o nome pelo qual gostaria de ser chamado, por exemplo: Rei Paulo, o Corajoso ou Rainha Joana, a Valente; em seguida, desenhe esse monarca e o seu reino.

Vivência Religiosa – folha anexa



LIÇÕES DE MATEMÁTICA E CIÊNCIAS – 3º ano Semana de 1º a 5 de abril de 2024.

Segunda-feira

Curitiba, 1º de abril de 2024.

Observe.



Copie e responda.

- 1) Que horas o relógio está marcando?
- 2) Se o ponteiro grande sair do número 12 e parar no 1, quantos minutos terão passado?

Terça-feira

Curitiba, 2 de abril de 2024.

Copie e faça o que se pede.

1. Escreva o horário que cada relógio está marcando:

a)



b)



c)



anexo

2. Veja no cartaz o horário de funcionamento de um museu e marque com **x** a afirmação correta

- O museu abre às 9 horas da manhã e fecha às 6 horas da tarde todos os dias da semana.
- O museu abre às 6 horas da manhã, fecha às 4 horas da tarde e não abre às segundas-feiras.
- O museu abre às 9 horas da manhã, fecha às 5 horas da tarde e não abre às segundas-feiras.



anexo

Quarta-feira

Curitiba, 3 de abril de 2024.

Copie e responda.

- 1) Se Júlio começou a almoçar às 12h e terminou às 12h40min, quanto tempo durou seu tempo de almoço?
- 2) Ao terminar de almoçar, Júlio assistiu à televisão durante 20 minutos. A que horas ele desligou a tv?

Quinta-feira

Curitiba, 4 de abril de 2024.

Copie e responda.

O relógio de Maurício está marcando 7h45min e ele começa a trabalhar às 8 h. Quantos minutos faltam para ele iniciar o trabalho?

Sexta- feira/CIÊNCIAS

Curitiba, 5 de abril de 2024.

Tema: Poríferos

Leia:

Algumas espécies de poríferos são macias e muito apreciadas como esponjas de banho. O uso dessas espécies de poríferos como esponjas de banho é muito antigo. A coleta para fins comerciais atingiu seu apogeu na década de 1930, tendo feito muita fortuna em Cuba, nas Bahamas e na Tunísia. Porém com a intervenção humana em seu habitat, surgiu uma epidemia em esponjas por um agente não determinado em 1938 e 1947, quase acabando com as populações de poríferos dessas regiões. Depois disso, elas nunca mais voltaram a ser abundantes como antes e foram sendo substituídas pelas esponjas sintéticas.

Fonte: Seres vivos: a vida maravilhosa na Terra – 6ªsérie- ensino fundamental- Livro do professor/ Lembos, Antônio e Moisés, Helvio. 1 ed. São Paulo: IBEP,2006.

Copie e faça o que se pede:

Preencha o quadro a seguir de acordo com o texto acima. Recorte o quadro e cole-o em seu caderno.

Os poríferos eram usados para quê?	
Quais eram os países que mais comercializavam os poríferos?	
O que causou a intervenção dos humanos no habitat dos poríferos?	

a)



b)



c)



- O museu abre às 9 horas da manhã e fecha às 6 horas da tarde todos os dias da semana.
- O museu abre às 6 horas da manhã, fecha às 4 horas da tarde e não abre às segundas-feiras.
- O museu abre às 9 horas da manhã, fecha às 5 horas da tarde e não abre às segundas-feiras.

