

Lições de Francês e Português / 4º ano  
Semana de 29 de julho a 2 de agosto de 2024.

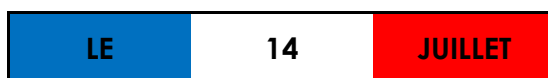
## Lundi - Français

Curitiba, le 29 juillet 2024

### Thème : le 14 juillet

Salut! Ça va?

Enquanto estávamos de férias, os franceses comemoraram a festa mais importante para a história da França:



Leia o texto para saber mais sobre este dia:

Le 14 juillet, c'est **la fête nationale** en France. La fête nationale est le jour où un pays célèbre un événement historique, politique ou culturel lié à son histoire. En France, on fête la **Révolution Française** (1789) et **la prise de la Bastille**.

Des célébrations sont organisées partout dans le pays. Il y a des bals, des défilés militaires, des concerts et des feux d'artifice !

Regarde le bouquet final ici :



<https://youtu.be/sRtMyhNeazI>

### EXERCICE :



Attention : prends ton **livre (pas le cahier d'activités)**.

Lis les informations de la **page 74**. Fais aussi l'**exercice 2 de la même page**. Observe bien les images de la célébration du 14 juillet et trouve les 7 différentes entre elles. Bon travail !

**Português**

**Segunda-feira**

**Curitiba, 29 de julho de 2024.**

**Leia:**

Observe a ilustração para responder as questões a seguir:



**Copie as questões, imagine e responda-as:**

- 1) O que o menino está observando pela janela?
- 2) Em que parte do dia essa cena aconteceu?
- 3) Por que o menino ainda está de pijama no quarto?

---

**Leia este poema para fazer as lições a seguir:**



## Na minha rua

Na minha rua há um menininho doente.  
Enquanto os outros partem para a escola,  
junto à janela, sonhadoramente,  
ele ouve o sapateiro bater sola.

Ouve também o carpinteiro, em frente,  
que uma canção napolitana engrola.  
E pouco a pouco, gradativamente,  
o sofrimento que ele tem se evola...

canta de maneira  
imperfeita ou apressada

desaparece

Mas nesta rua há um operário triste:  
não canta nada na manhã sonora  
e o menino nem sonha que ele existe.

Ele trabalha silenciosamente...  
E está compondo este soneto agora,  
pra alminha boa do menino doente...



Mário Quintana. *Antologia de poesias brasileiras*.  
São Paulo, Girassol, 2002.

**Terça-feira**  
**Curitiba, 30 de julho de 2024.**

**Copie e responda de acordo com o poema "Na minha rua", de Mário Quintana:**

- 1) Por que o menino não vai à escola como as outras crianças?
- 2) Leia este verso do poema: "junto à janela, sonhadoramente". Que sonhos você imagina que o menino tem?

**Quarta-feira**

**Curitiba, 31 de julho de 2024.**

**Copie e responda de acordo com o poema “Na minha rua”, de Mário Quintana:**

1) Observe as personagens do poema.



**ANEXO**

a) Circule quem contribui para que a manhã seja sonora.

b) Por que essa personagem contribuía para que a manhã fosse sonora?

---

**Quinta-feira**

**Curitiba, 1º de agosto de 2024.**

**Copie e responda de acordo com o poema “Na minha rua”, de Mario Quintana:**

1) O uso do substantivo **menininho** e não **menino** indica que tipo de sentimento do poeta pelo menino? Copie a alternativa correta.

ironia

carinho

tristeza

arrependimento

2) Transcreva um verso do poema que indica que o poeta e o menino moram na mesma rua.

---

**Sexta-feira**

**Curitiba, 2 de agosto de 2024.**

**Copie e responda:**

1) Em relação ao problema que o menino enfrentava, o poeta foi:

indiferente

injusto

solidário

fiel

2) Você já foi solidário a alguém que não conhecia? O que fez?

---



**Lições de Matemática e Vivência Religiosa / 4º ano**  
**Semana de 29 de julho a 2 de agosto de 2024.**

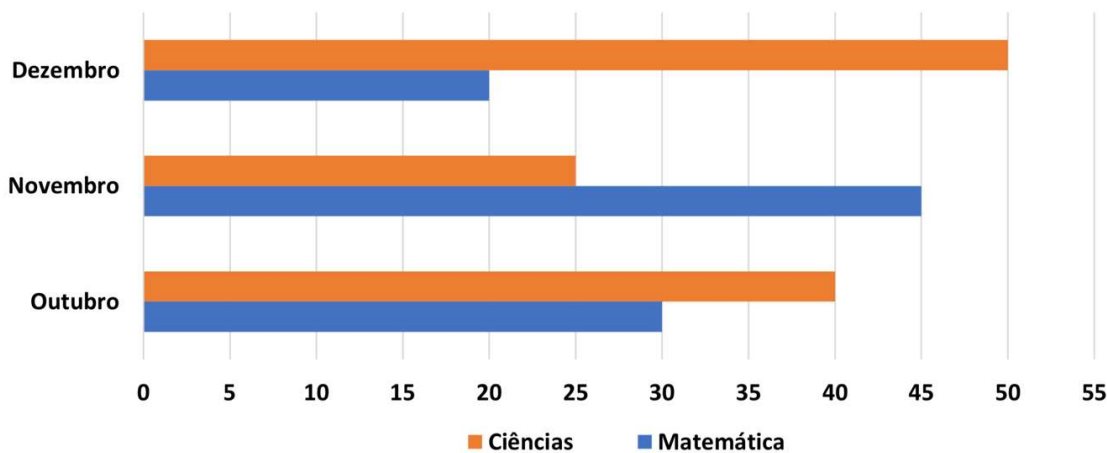
**Segunda-feira**

**Curitiba, 29 de julho de 2024.**

**Leia:**

O gráfico seguinte mostra as classificações dos estudantes do 4º ano de uma escola, em ciência e matemática, durante três meses.

**Classificação dos estudantes do 4º ano em Matemática e Ciências**



Fonte: dados fictícios

**Copie e responda de acordo com o gráfico acima:**

- Em que mês foi registrada a classificação mais alta em Ciências?
- Qual a diferença entre o número de classificados em Ciências e Matemática no mês de outubro?

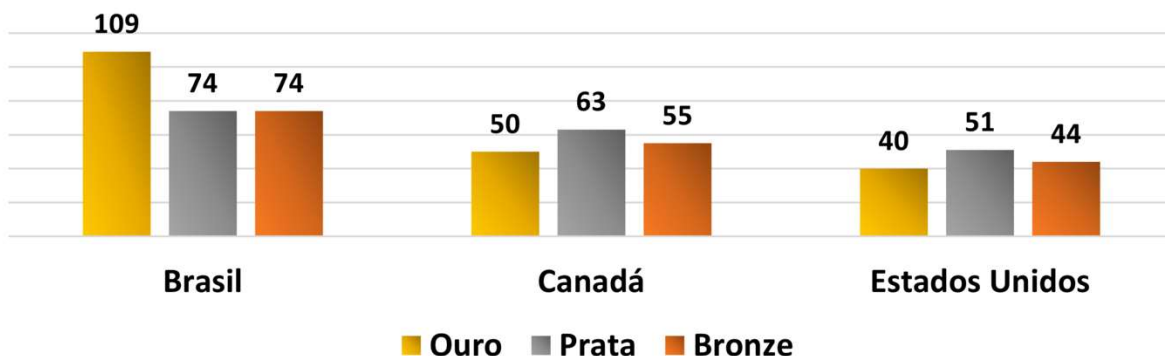
**Terça-feira**

**Curitiba, 30 de julho de 2024.**

**Leia:**

Os Jogos Parapan-Americanos de 2015 foram realizados no Brasil na cidade do Rio de Janeiro. O gráfico a seguir mostra os três primeiros colocados.

**Número de medalhas dos três primeiros colocados nos Jogos Parapan-americanos de 2015**



### Faça o que se pede:

Analise as informações desse gráfico e marque (V) para as afirmações verdadeiras e (F) para as falsas.

#### Apresente os cálculos.

- ( ) O Brasil, primeiro colocado, alcançou um total de mais de 300 medalhas.
- ( ) A diferença entre o total de medalhas do Brasil e do Canadá é igual a 89.
- ( ) No total, os Estados Unidos têm 33 medalhas a menos que o Canadá.
- ( ) O número de medalhas de ouro do Brasil é menor que a soma das medalhas de ouro do Canadá e Estados Unidos.

Anexo

### Quarta-feira

Curitiba, 31 de julho de 2024.

Leia:

O gráfico abaixo mostra a temperatura registrada de duas em duas horas na cidade de Porto do Sol, num período de 12 horas.

Temperaturas (em °C) na cidade de Porto do Sol



Copie e responda de acordo com o gráfico acima:

- a) Qual a menor temperatura registrada? Em que hora essa temperatura foi registrada?
- b) Em que período de horário houve queda de temperatura?

### Quinta-feira

Curitiba, 1º de agosto de 2024.

Leia:

A professora Maria estava planejando levar a turma ao cinema. Para isso, fez uma pesquisa com todos os estudantes para decidir qual o gênero de filme preferido. Cada um votou uma única vez. O resultado da pesquisa pode ser visto na tabela ao lado.

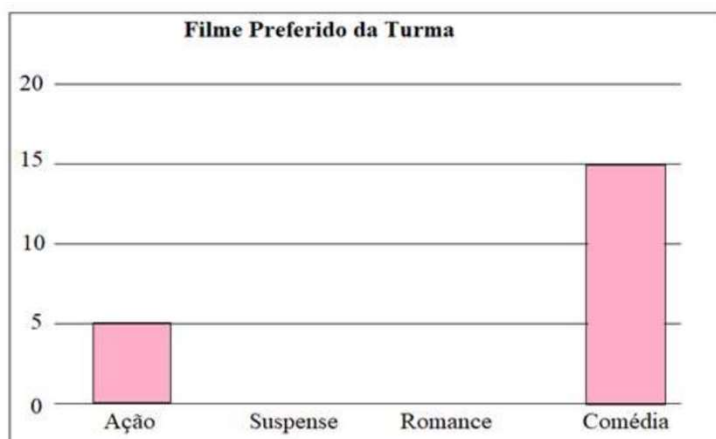
Os estudantes desejam elaborar um gráfico com o resultado da pesquisa.  
Vamos ajudá-los.

Gênero de filme preferido pela turma	
Gênero de filme	Alunos
Ação	5
Suspense	10
Romance	5
Comédia	15

Fonte: Alunos da turma

**Copie e faça o que se pede:**

Complete o gráfico a seguir com as informações da pesquisa.



anexo

Qual foi o número de estudantes pesquisados?

**Sexta-feira**

Curitiba, 2 de agosto de 2024.

**Copie e faça o que se pede:**

**Brincadeira: Jogo da memória**

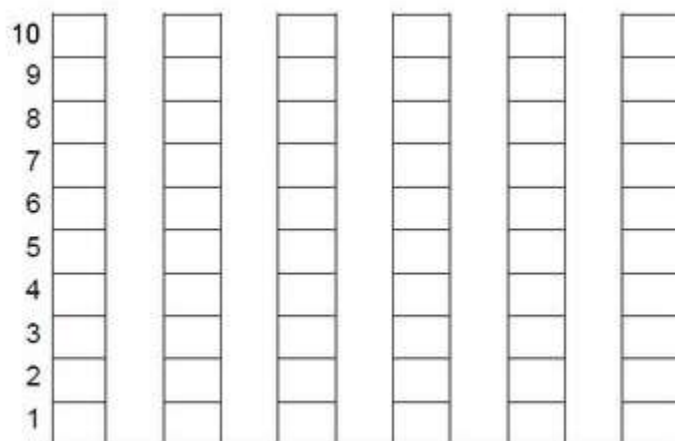
Complete a tabela a seguir com o número de cartas que cada criança ficou ao final da brincadeira, JOGO DA MEMÓRIA:

CRIANÇAS	QUANTIDADE DE CARTAS	NUMERO
ESTER		
MARIANA		
YASMIM		
LORENZA		
CARLOS		
MURILO		

Anexo



Agora, você deverá colorir o gráfico a seguir com as informações da tabela que você acabou de completar.



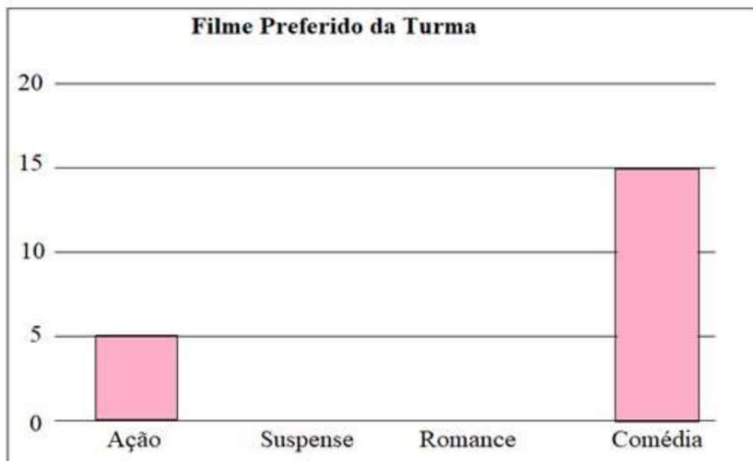
- Colorir de amarelo o nome da criança que ficou com mais cartas.
- Colorir de azul o nome da criança que ficou com menos cartas.
- Colorir de verde o nome das crianças que ficaram com a mesma quantidade de cartas.

Anexo

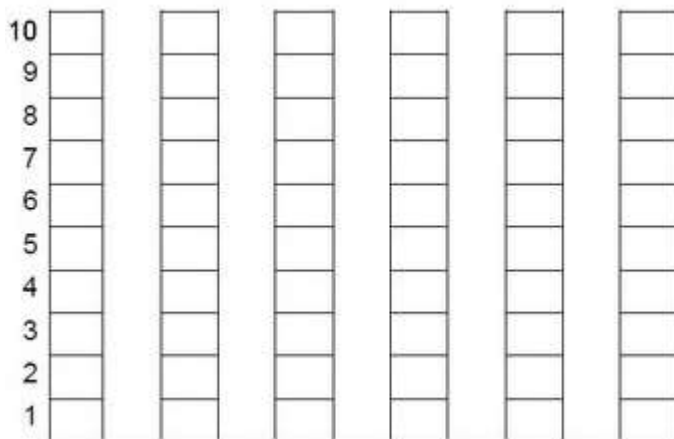
**Vivência Religiosa – folha anexa. Entregar na segunda.**

**Apresente os cálculos.**

- ( ) O Brasil, primeiro colocado, alcançou um total de mais de 300 medalhas.
- ( ) A diferença entre o total de medalhas do Brasil e do Canadá é igual a 89.
- ( ) No total, os Estados Unidos têm 33 medalhas a menos que o Canadá.
- ( ) O número de medalhas de ouro do Brasil é menor que a soma das medalhas de ouro do Canadá e Estados Unidos.



CRIANÇAS	QUANTIDADE DE CARTAS	NUMERO
ESTER	8	
MARIANA	6	
YASMIM	4	
LORENZA	10	
CARLOS	2	
MURILO	8	



- Colorir de amarelo o nome da criança que ficou com mais cartas.
- Colorir de azul o nome da criança que ficou com menos cartas.
- Colorir de verde o nome das crianças que ficaram com a mesma quantidade de cartas.