

Segunda-feira / Francês
Lundi – Français

Curitiba, le 30 septembre 2024

Thème: les couleurs

1. Lis les phrases et colorie les ballons:



1. C'est un ballon rouge.



2. C'est un ballon bleu.



3. C'est un ballon rose.



4. C'est un ballon vert.



5. Bouba a un ballon rouge et un ballon jaune.

anexo

Português

Leia a curiosidade abaixo para realizar as lições de Língua Portuguesa.

Ele é gelado e cremoso. Pode ser de chocolate, milho verde, doce de leite, frutas... No copinho ou na casquinha, é sucesso em qualquer época do ano.

Qual é a origem do Sorvete?



O sorvete teve origem na China, há quatro mil anos, quando misturaram leite e arroz para fazer uma sobremesa parecida com uma raspadinha de gelo. O explorador Marco Polo, no século XIII, levou a receita para a Itália. Ele espalhou a receita, que ficou só na Itália até aproximadamente o século XVI.

Outra versão da história diz que, em 618 d.C - 697 d.C, o imperador chinês King Tang misturava leite com água do rio para fazer o sorvete.

Quando a receita chegou na Europa, a esposa do rei Henrique II, Catarina de Médici trouxe a sobremesa para a França e colocou no cardápio da corte francesa.

No início, só os mais ricos consumiam sorvete, porque o leite era caro, sendo necessário ter câmaras frias subterrâneas para a conservação do produto até o verão.

Também há registros que dizem que o imperador romano Nero (37 d.C - 68 d.C) mandava seus empregados trazerem neve e gelo das montanhas para misturar com outros ingredientes, como frutas.

Adaptado. [www. jc.ne10.uol.com.br](http://www.jc.ne10.uol.com.br)

Segunda-feira/ Português

Curitiba, 30 de setembro de 2024.

No caderno de português, copie e responda.

1. Segundo o texto, onde e há quantos anos surgiu a primeira versão do sorvete?
2. Qual era o ingrediente principal da mistura feita na China que se assemelhava a um sorvete?

Terça-feira/ Português

Curitiba, 1º de outubro de 2024.

No caderno de português, copie e responda.

1. Quem foi o explorador que trouxe a receita de sorvete para a Itália?
2. Na época do imperador chinês King Tang, como era feito o sorvete?

Quarta-feira/ Português

Curitiba, 2 de outubro de 2024.

No caderno de português, copie e responda.

1. Explique o que Catarina de Médici fez ao chegar na Europa em relação às sobremesas.
2. Por que no início apenas os mais ricos podiam consumir o sorvete?

Quinta-feira/ Português

Curitiba, 3 de outubro de 2024.


Leia e realize, no caderno, o que se pede a seguir:

Certamente, você já experimentou sorvete. **Descreva** em detalhes como foi sua experiência ao saborear esse doce gelado. Conte qual é o seu sabor favorito e o que o torna tão especial para você. Para completar, faça uma ilustração que mostre como foi essa experiência.

Sexta-feira/História

Curitiba, 4 de outubro de 2024.

Tema: **China – Religião**



Leia:

O grande Buda de Leshan

Conhecida como Dafo, a estátua do Buda está localizada num desfiladeiro do monte Emei, próximo à cidade de Leshan, no sul da província de Sichuan, na China. É a maior estátua de Buda esculpida em pedra do mundo, com 71 metros de altura.

A estátua foi construída na dinastia Tang (618-907). Em 713, um monge budista chamado Hai Tong visitava a província de Sichuan e decidiu construir uma grande estátua de Buda no local, na esperança de acalmar as turbulentas águas do rio, que dificultavam a navegação e proteger os barcos que por muitas vezes naufragavam na travessia dos rios. Por mais de vinte anos, o monge arrecadou dinheiro para a construção, porém morreu quando a construção da estátua estava um pouco acima dos joelhos.



Fonte: <https://www.magnusmundi.com/o-grande-buda-de-leshan/>

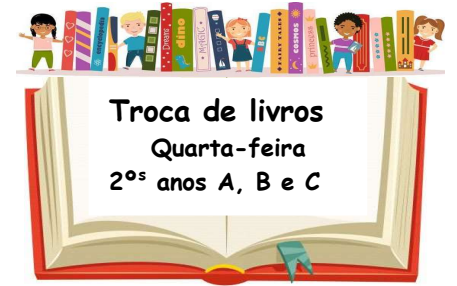
Copie e responda de acordo com o texto **O grande Buda de Leshan:**

- 1) Quantos metros de altura tem a estátua de Buda de Leshan?
- 2) Por que ela foi construída?

Sexta-feira/ **Vivência Religiosa**

Curitiba, 4 de outubro de 2024.

Segue folha anexa – Entregar na segunda-feira (7/10).

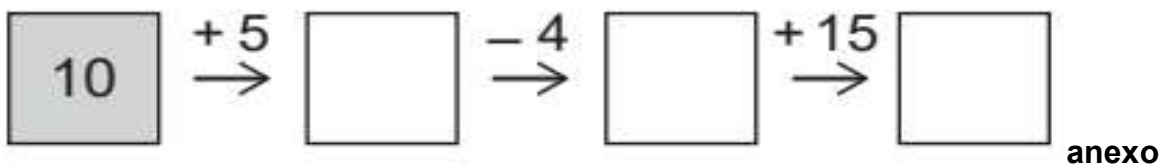


Segunda-feira/ Matemática

Curitiba, 30 de setembro de 2024.

Copie e resolva:

a) Bruna fez as 3 contas indicadas pelas flechas e foi escrevendo os resultados nos quadradinhos. Que número ela escreveu no último espaço?



b) Escreva por extenso os números que você vê nos quatro quadros, após completar o anexo.

Terça-feira/ Matemática

Curitiba, 1º de outubro de 2024.

Leia:

Algumas espécies animais têm o tempo de gestação menor que o do ser humano.



Copie e responda:

- Qual desses animais tem o menor tempo de gestação?
- Quantos dias a menos, aproximadamente?

Quarta-feira/ Matemática

Curitiba, 2 de outubro de 2024.

1) Copie e assinale.

O pai de Gabriel comprou em uma loja de construção, os três algarismos abaixo para identificar o número da moradia da família.



Qual dos números abaixo não pode ser o da residência deles?

- a) 193 c) 361 e) 913
b) 631 d) 169



Quinta-feira/ Matemática

Curitiba, 3 de outubro de 2024.

Leia:

Olhe o que dizem quatro amigos.



Anexo

Copie e responda:

- a) Quantas bolinhas Samuel tem?
b) Se você tivesse o dobro da quantidade de bolinhas de Samuel, quantas teria?

Sexta-feira/ Ciências

Curitiba, 4 de outubro de 2024.

Tema: Aves

Leia:

Guará é símbolo de iniciativas de preservação no litoral do Paraná

Ave, que já ficou desaparecida de Guaratuba (PR), incentiva trabalhos de proteção e pesquisa da biodiversidade local.



Ave que deu origem ao nome da cidade Guaratuba incentiva projetos de preservação ambiental — Foto: Edgar Fernandez

O município de Guaratuba (PR) não poderia ter outra espécie como símbolo de proteção à natureza senão à que lhe inspirou o nome, o guará (*Eudocimus ruber*). Em tupi, Guaratuba refere-se justamente a um lugar onde se encontram os guarás.

Por Ananda Porto, Terra da Gente - 25/08/2020 13h21

Copie e responda:

Observe a imagem da notícia acima. Por que você acha que o bico do guará tem este formato?

$$\boxed{10} \xrightarrow{+5} \boxed{} \xrightarrow{-4} \boxed{} \xrightarrow{+15} \boxed{}$$


 BENJAMIN: EU TENHO 6 BOLINHAS

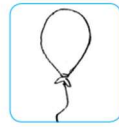
 ALÍCIA: EU TENHO 2 BOLINHAS A MENOS QUE BENJAMIN

 RAFAEL: EU TENHO 5 BOLINHAS A MAIS QUE ALÍCIA

 SAMUEL: EU TENHO 4 BOLINHAS A MENOS QUE RAFAEL



1. C'est un ballon rouge.



2. C'est un ballon bleu.



3. C'est un ballon rose.



4. C'est un ballon vert.



5. Bouba a un ballon rouge et un ballon jaune.