

Lundi – Français

Curitiba, le 21 octobre 2024

Thème: lecture

1. Observe l'image et copie la bonne phrase.



Pirouette joue avec un ballon rouge.

Pirouette joue avec deux ballons jaunes.

Pirouette joue avec un ballon bleu.

Pirouette joue avec un ballon jaune.

Pirouette joue avec deux ballons verts.

Português

Leia a biografia dos Irmãos Grimm para realizar as lições de Língua Portuguesa.

Jacob e Wilhem Grimm nasceram em Hanau, na Alemanha, em 1785 e 1786, respectivamente. Filhos de Philip Wilhelm Grimm e Dorothea Grimm, os quais tinham nove filhos ao todo. Jacob e Wilhelm eram os filhos mais velhos. Com a morte repentina do pai, em 1796, os irmãos viram-se obrigados a se mudar para a casa de sua tia materna, em Hassel, e lá começaram a estudar.

Ao terminar o Ensino Médio, **eles** ingressaram na faculdade de direito. Interessavam-se nas pesquisas de documentos históricos e manuscritos e logo abandonaram a advocacia para se dedicar à literatura. Vendo o interesse **deles**, um de seus professores disponibilizou sua própria biblioteca particular aos irmãos, dando-**lhes** acesso às inúmeras obras do Romantismo e às cantigas de amor.

Após se formar, os irmãos ficaram em Kassel, onde passaram a ser bibliotecários. Com essa profissão, tinham acesso a várias informações, então começaram a se interessar e a pesquisar sobre: contos, poesias.

Eles tiveram os primeiros contos publicados no ano de 1812, recebendo o título "Histórias das Crianças e do Lar". Foram um total de cinquenta e um contos que ganharam força e conhecimento em variadas versões, conquistando assim povos distintos de culturas e costumes.

Wilhelm Grimm morreu a 16 de dezembro de 1859. Jacob Grimm continuou a trabalhar na obra deles até morrer a 20 de setembro de 1863.



Texto adaptado para fins pedagógicos.

Segunda-feira/ Português

Curitiba, 21 de outubro de 2024.

No caderno de português, copie e responda.

Complete com dados dos biografados:

Nomes dos dois irmãos	
Onde e quando nasceram	
Nome dos pais	
Número de irmãos	
Ano da morte do pai	

anexo

Terça-feira/Português

Curitiba, 22 de outubro de 2024.

Leia:

Releia o segundo parágrafo, observando as palavras destacadas

No caderno de português, copie e responda.

As palavras destacadas se referem a quem?

Quarta-feira/ Português

Curitiba, 23 de outubro de 2024.

Copie e responda:

- Na época dos irmãos Grimm, qual era a vantagem de ser bibliotecário?
- Em que ano os irmãos Grimm tiveram seus primeiros contos publicados?

Quinta-feira/ Português

Curitiba, 24 de outubro de 2024.

Leia:

Você já deve ter escutado contos infantis em algum momento.

Copie e responda:

- Qual deles é o seu preferido?
- Ilustre esse conto.

Sexta-feira/ História

Curitiba, 25 de outubro de 2024.





Tema: O Cavalo de Troia

Leia e faça o que se pede:

Crie uma história em quadrinhos onde você seja o personagem principal. Sua missão é dar um “presente de grego” a alguém. Siga os passos a seguir:

- 1- Pense no presente e em quem vai recebê-lo;
- 2- Defina o local onde você entregará o presente;
- 3- Converse com o outro personagem durante a entrega.

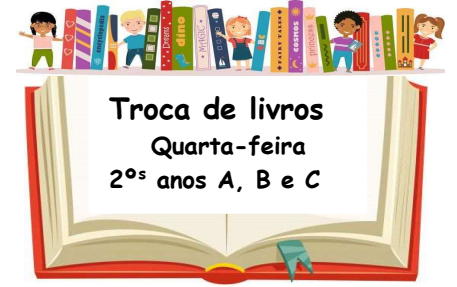
Depois recorte e cole sua história no caderno.

Sexta-feira/ **Vivência Religiosa**

Curitiba, 25 de outubro de 2024.

Segue folha anexa – Entregar na segunda-feira (28/10).



Segunda-feira/ Matemática

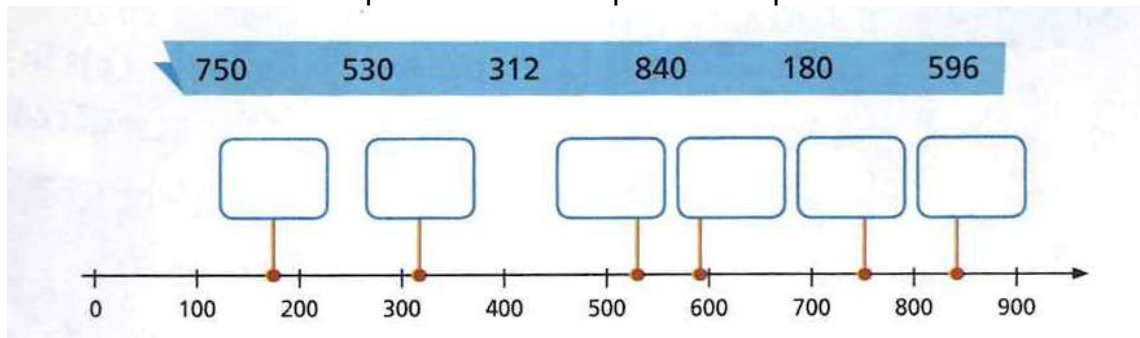
Curitiba, 21 de outubro de 2024.

Leia:

Na reta numérica abaixo, cada ponto destacado representa um número da ficha.

Copie e faça o que se pede:

- a) Escreva o número correspondente a cada ponto nos quadrinhos.



- b) Qual é a diferença entre o maior e o menor número da reta numérica?

Terça-feira/ Matemática

Curitiba, 22 de outubro de 2024.

1) Leia:

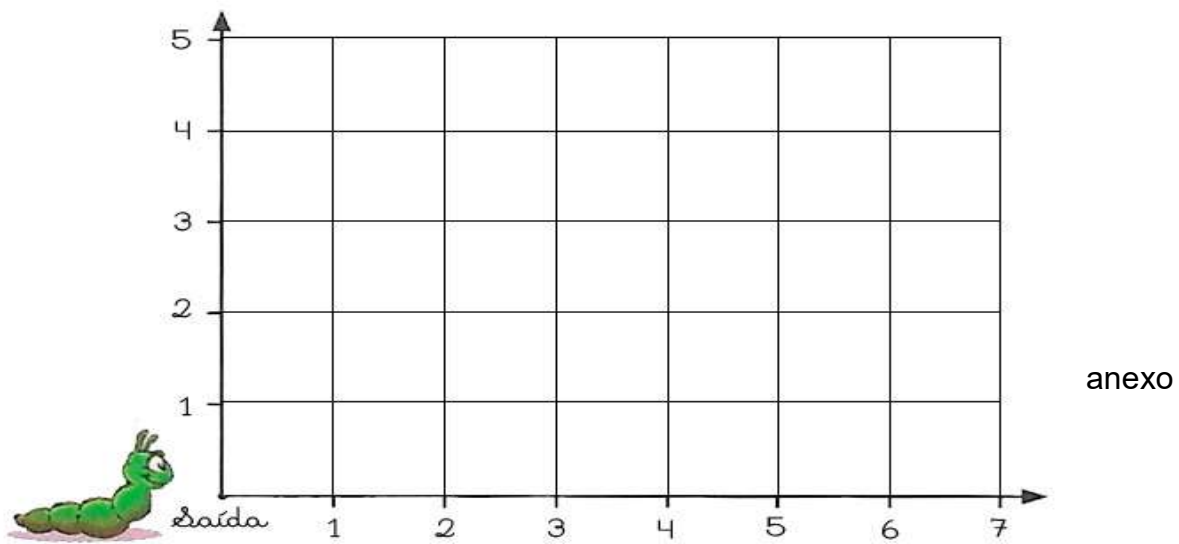
Uma lagartinha se movimentou sobre a malha quadriculada, caminhando sempre pelos lados dos quadradinhos.

Cada lado dos quadradinhos mede 1cm.

Leia e faça o que se pede:

- a) Desenhe o caminho percorrido pela lagartinha seguindo este trajeto:
- andou 4cm para a direita,
 - 1 cm para o alto,
 - 2 cm para a direita,
 - 3 cm para o alto,
 - 5 cm para a esquerda,
 - 1 para baixo,
 - 2 para a direita,
 - e 1 para baixo.

Indique o ponto de chegada.



Copie e responda:

b) Quantos centímetros a lagartinha percorreu no total?

Quarta-feira/ Matemática

Curitiba, 23 de outubro de 2024.

Leia:

Laura está curiosa para saber a altura da barraca ilustrada abaixo. Dica: Ela observou que havia uma escada ao lado e lembrou que sua altura é 1m.

Copie e resolva:

De que maneira Laura pode descobrir quantos metros tem a barraca?



Quinta-feira/ Matemática

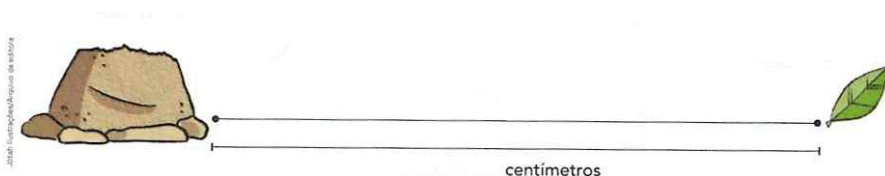
Curitiba, 24 de outubro de 2024.

Leia:

Uma formiga está indo do formigueiro até a folha e já percorreu metade desse caminho.

Copie e faça o que se pede:

Use uma régua, faça as medições necessárias e indique onde está a formiga.



anexo


Sexta-feira/ Ciências

Curitiba, 25 de outubro de 2024.

Tema: Mamíferos

Copie, faça e faça o que se pede:

1. Circule apenas os animais **mamíferos**. (Recorte o quadro e cole-o no caderno.)



2. Por que você circulou e selecionou esses animais como mamíferos?

Nomes dos dois irmãos	
Onde e quando nasceram	
Nome dos pais	
Número de irmãos	
Ano da morte do pai	

