

Semana de 4 a 8 de novembro de 2024

Lundi - Français

Curitiba, le 4 novembre 2024

Thème : la Maison

Copie e faça no seu caderno de francês



1. Prends ton **livre** et observe les images de la maison de Rita, à la **page 18**.

Dis **où** sont les personnages.

Complete as frases com o nome dos cômodos da casa: la salle de bains, le salon, la chambre, le jardin, la cuisine


- a) Fifi, le chat de Rita, est dans le _____. Il regarde 👁️ la télévision 📺.
- b) Pic Pic est dans la _____. Il regarde 👁️ le gâteau 🍰 qui est sur la table.
- c) Tilou est sous la douche 🚿, dans la _____.
- d) Tout le monde est dans le _____. Ils mangent le gâteau au chocolat 🍰 🍰.
- e) Lila range ses vêtements 👗 👕 dans la _____.

💡 Conseil :

- Consulte le dictionnaire aux pages 76 et 77 de ton cahier d'activités.
-

Leia o texto para realizar as lições de Língua Portuguesa

Com tainha não vale



Três jovens que participaram de uma competição de pesca na Nova Zelândia correm risco de ser condenados à prisão. Motivo: enganaram os organizadores de torneio para ganhar o prêmio de US\$ 10 mil. O peixe que eles afirmaram ter pescado fora comprado 19 dias antes. Eles introduziram uma tainha inteira no peixe para aumentar o seu peso e o conservaram na geladeira.

(Revista Isto é, nº 1710. São Paulo, Editora Três, 10/07/2002)

Segunda-feira

Curitiba, 4 de novembro de 2024.

Leia:

O texto acima é uma **notícia**. As notícias relatam acontecimentos reais. A linguagem de uma notícia costuma ser direta, objetiva. Normalmente as notícias apresentam: um título (ou manchete); um fato (**o que** ocorreu); **quem** estava envolvido; **quando** ocorreu; **como** ocorreu e **por que** ocorreu.

Copie e responda:

- 1) Qual é o fato relatado pela notícia **Com tainha não vale**?
- 2) Em que meio de comunicação a notícia foi publicada?

Terça-feira

Curitiba, 5 de novembro de 2024.

Copie e responda.

- 1) Com quem o fato relatado na notícia ocorreu?
- 2) Onde o fato ocorreu?

Quarta-feira

Curitiba, 6 de novembro de 2024.

Copie e responda.

- 1) Em que dia o fato foi noticiado?
- 2) Por que os três jovens correm risco de ser presos?

Quinta-feira

Curitiba, 7 de novembro de 2024.

Copie e responda.

- 1) Como os jovens enganaram os organizadores do torneio?
- 2) Explique o título da notícia: "Com tainha não vale".

Sexta-feira/História

Curitiba, 8 de novembro de 2024.

Tema: Os indígenas brasileiros








Leia e faça o que se pede:

Vamos conhecer um pouco mais da arte indígena? Leia o quadro abaixo:

- **Arte Plumária:** Utilizada em rituais e colada diretamente no próprio corpo. Ela serve também para decorar máscaras, vestimentas, colares, braçadeiras, brincos, pulseiras e cocares. É feita de penas e de caudas de aves.
- **Arte Ritualística:** Feita de cascas de árvore, palha e pode ser enfeitada com plumagem. Apresenta um **simbolismo sobrenatural** e representa personagens da mitologia indígena. Utilizada em cerimônias, rituais e no momento das danças.
- **Cerâmica:** Feita de barro/argila e produzida à mão, principalmente, pelas mulheres. É utilizada como vaso, panela, esculturas, estátua etc.
- **Cestaria:** Utilizada para uso doméstico, na manutenção e transporte de alimentos. É mais praticada pelas mulheres, que desenvolvem variadas formas de trançados e em diferentes formatos. Feita de folhas, palmas, talas e fibras.

Observe as imagens a seguir e indique o tipo de arte de cada uma. Recorte-as e cole-as em seu caderno. Coloque um título.



- a) Fifi, le chat de Rita, est dans le _____. Il regarde  la télévision .
- b) Pic Pic est dans la _____. Il regarde  le gâteau  qui est sur la table.
- c) Tilou est sous la douche , dans la _____.
- d) Tout le monde est dans le _____. Ils mangent le gâteau au chocolat  .
- e) Lila range ses vêtements   dans la _____.

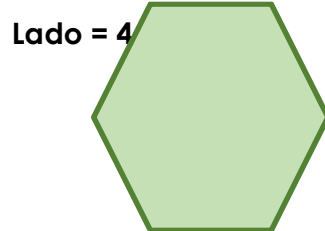
Lições de Matemática e Ciências – 4º ano
Semana de 4 a 8 de novembro

Segunda-feira

Curitiba, 4 de novembro de 2024.

Copie e responda:

Calcule o perímetro do hexágono abaixo. Apresente o cálculo:

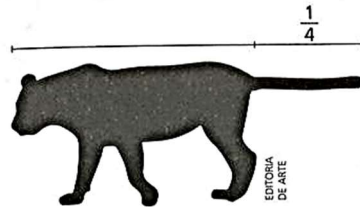


Terça-feira

Curitiba, 5 de novembro de 2024.

Leia:

A onça pintada é o maior felino do continente americano. Pode medir até 240cm de comprimento, e cerca de $\frac{1}{4}$ desse comprimento corresponde à cauda.



Copie e responda:


- 1) Quantos centímetros pode ter a cauda de uma onça-pintada?
- 2) E quantos centímetros pode ter o corpo de uma onça-pintada?

Quarta-feira

Curitiba, 6 de novembro de 2024.

Observe a representação do quadro abaixo:

A pintura **Independência ou morte**, de Pedro Américo (1843-1905), é uma representação artística da proclamação da Independência do Brasil.



Pedro Américo. **Independência ou morte**. 1888.
Óleo sobre tela, 4,15 m × 7,60 m.

Copie e responda:

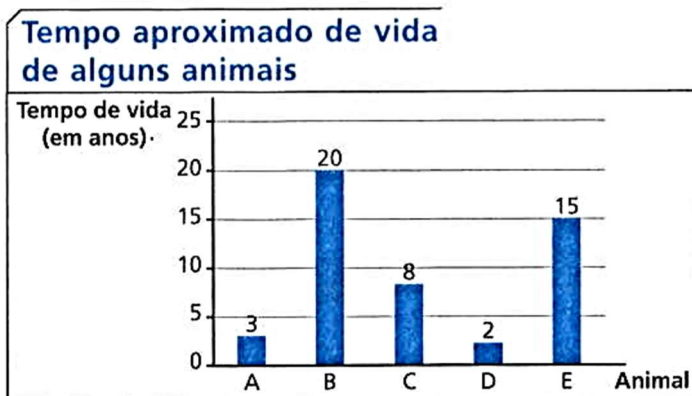
Veja as medidas dessa obra e calcule o perímetro dela em metros.

Quinta-feira

Curitiba, 7 de novembro de 2024.

Leia e observe o gráfico com atenção:

O gráfico indica o tempo aproximado de vida de alguns animais domésticos: cachorro, peixe beta, coelho, hamster e gato.



Fonte de pesquisa: REVISTA Meu Pet.
São Paulo: Escala, 2014. Disponível em:
<www.revistameupet.com.br>.
Acesso em: 29 ago. 2017.

Dicas:

O gato é o animal que vive mais tempo.

O peixe beta é o animal que vive menos tempo.

O coelho vive mais que o hamster e menos que o cachorro.

Copie e responda:

De acordo com as dicas, escreva o nome do animal correspondente a cada coluna do gráfico:

A –

B –

C –

D –

E –

Sexta-feira/Ciências

Curitiba, 8 de novembro de 2024.

Leia:

Esgoto polui praias de Natal

A Praia de Areia Preta a cada dia que passa vem perdendo frequentadores. São poucos os que se arriscam a tomar banho no local, principalmente, na área próxima ao Relógio do Sol, onde há uma galeria pluvial contaminada por ligações clandestinas de esgotos que deságuam na praia.

[...]

Vocabulário

Clandestino: feito escondido, de modo ilegal.



Praia de Areia Preta

Justiça Federal do Rio Grande do Norte. Obtido em:
<www.jfrn.gov.br>. Acessado em: 10/09/2007.

• **Copie e responda:**

Em sua opinião, as pessoas podem brincar na água dessa praia, perto de onde está sendo despejado o esgoto? Por quê?