

## Lundi – Français

Curitiba, le 18 novembre 2024

**Thème: les formes**

1. Lis ce que disent les personnages. Relie les phrases au bon dessin.



Il y a 4 cercles et 1 carré.



Il y a 2 carrés, 2 cercles  
et 1 triangle.



Il y a 6 carrés, 2 triangles  
et 3 cercles.



anexo

 **Conseil :**



Si nécessaire, consulte la rubrique « Mon petit dictionnaire », unité 2, à la page 68 de ton cahier d'activités Zig Zag.

---

## Português

Para realizar as lições de **Língua Portuguesa**, leia a história em quadrinhos a seguir.

TURMA DA  
**Mônica**

MAURICIO

COLECIONAR LIVROS



MAS HÁ PESSOAS, CRIANÇAS OU ADULTOS, QUE COLECIONAM...



É MUITO GOSTOSO LER E RELER HISTÓRIAS QUE NOS DIVERTEM OU NOS EMOCIONAM!



QUEM COLECIONA LIVROS E GIBIS TAMBÉM GOSTA DE TROCÁ-LOS COM OUTRAS PESSOAS...



E TAMBÉM PODE EMPRESTÁ-LOS PARA SEUS AMIGOS!



## Segunda-feira/ Português

Curitiba, 18 de novembro de 2024.

**Após a leitura da H.Q., copie e responda no caderno de português**

1. Qual é o título da HQ?
2. Quais são os tipos de coleções citados na história?

---

## Terça-feira/Português

Curitiba, 19 de novembro de 2024.

**No caderno de português, copie e responda.**

Observe novamente este quadrinho.



1. Qual é o tipo de balão que aparece no quadrinho?
2. É possível perceber que os livros e gibis estão bagunçados. Como você os organizaria?

---

## Quarta-feira

**Feriado Nacional Consciência Negra**

Curitiba, 20 de novembro de 2024.

---

## Quinta-feira/ Português

Curitiba, 21 de novembro de 2024.

**No caderno de português, copie e responda.**

1. De acordo com a HQ, por que é gostoso ler e reler histórias?
2. Ao longo do ano, lemos vários títulos literários em sala de aula. Qual história você indicaria para um amigo e por quê?

---


## Sexta-feira

Curitiba, 22 de novembro de 2024.

**Tema: GRÉCIA – Deuses**

**Copie e faça o que se pede:**

Algum mortal decidiu pregar uma peça nos deuses, escondendo seus objetos pessoais. Você pode ajudá-los a encontrá-los na ilustração a seguir? Depois, recorte e cole a imagem em seu caderno de História.

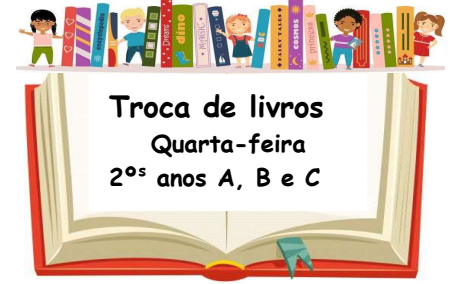


---

Sexta-feira/ **Vivência Religiosa**

Curitiba, 22 de novembro de 2024.

Segue folha anexa – Entregar na segunda-feira (25/11).



**Segunda-feira/ Matemática**

Curitiba, 18 de novembro de 2024.

1) Veja os sonhos das famílias de Gabi e Cauã e responda às perguntas.

GIZ DE CERA/LÉO FANELLI



NOSSO SONHO É MUDAR PARA UMA CASA MELHOR E MAIS PERTO DA ESCOLA.



NOSSO SONHO É MANTER A TRADIÇÃO DO NOSSO POVO MESMO LONGE DA NOSSA ALDEIA.

2) Copie e responda:

a) Qual dos sonhos acima é afetado pelas condições financeiras da família? Por quê?

R.:

b) Sua família compartilha de algum sonho? Quais são os planejamentos feitos para realizá-lo?

R.:

**Terça-feira/ Matemática**

Curitiba, 19 de novembro de 2024.

1) Leia:

Quando compramos um produto, a maioria deles tem embalagem e rótulo. Por mais diferentes que possam ser, existem algumas informações que todos devem ter. Essas informações são importantes para que possamos comparar preços, por exemplo. Podemos observar se a promoção é devido à proximidade da data de validade ou por ser uma embalagem menor.



2) Escolha uma embalagem que tenha em casa e complete o quadro com as informações que encontrar. Faça uma breve pesquisa para saber quanto custa seu item e anote no caderno. Se possível, traga a embalagem para a escola.

Nome do produto: _____
Capacidade ou peso: _____
Data de fabricação: _____
Data de validade: _____
Embalagem reciclável? _____

anexo

---

**Quarta-feira/ Matemática**

Curitiba, 20 de novembro de 2024.

**Feriado Nacional: Consciência Negra**

---

**Quinta-feira/ Matemática**

Curitiba, 21 de novembro de 2024.


**1) Leia:**

A duração de um banho ideal é de 5 a 6 minutos, sem fechar o registro. Um banho mais demorado que isso pode ser considerado desperdício de água.

Observe a hora marcada no relógio no momento de entrada e saída de cada um dos personagens.

**Copie e realize o que se pede:**

**a) Quanto tempo durou cada banho? Anote:**

			
ENTRADA	SAÍDA	ENTRADA	SAÍDA
			
Tempo passado: _____ minutos		Tempo passado: _____ minutos	

anexo

**b) Responda:**

a) Os banhos tiveram duração ideal?	Quem desperdiçou mais água?
b) Seus banhos tem duração de quanto tempo?	Peça ajuda para um familiar e monitore quanto tempo demorou seu banho. Anote.

anexo

### Sexta-feira/ Ciências

Curitiba, 22 de novembro de 2024.

Tema: **Mamíferos**



### Qual é o mamífero mais veloz?

O mamífero mais veloz é o **guepardo**. Ele consegue atingir a velocidade de 110 km/h, mas apenas por curtas distâncias. Diferentemente da maioria dos felinos, suas garras ficam expostas o tempo todo, ajudando-o a se impulsionar no solo durante a corrida.

Fonte: Como? Onde? Por quê? Editora Girassol.

### Copie e responda:

1. Qual é a velocidade máxima que o guepardo pode atingir?
2. Como as garras do guepardo ajudam na corrida?



Il y a 4 cercles et 1 carré.



Il y a 2 carrés, 2 cercles et 1 triangle.



Il y a 6 carrés, 2 triangles et 3 cercles.



Nome do produto: \_\_\_\_\_

Capacidade ou peso: \_\_\_\_\_

Data de fabricação: \_\_\_\_\_

Data de validade: \_\_\_\_\_

Embalagem reciclável? \_\_\_\_\_



ENTRADA

SAÍDA



Tempo passado: \_\_\_\_\_ minutos



GIZ DE CERA/LEDO FANELLI

ENTRADA

SAÍDA



Tempo passado: \_\_\_\_\_ minutos



<b>a)</b> Os banhos tiveram duração ideal?	Quem desperdiçou mais água?
<b>b)</b> Seus banhos tem duração de quanto tempo?	Peça ajuda para um familiar e monitore quanto tempo demorou seu banho. Anote.