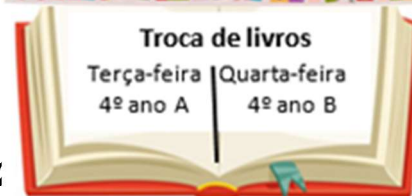




**Língua portuguesa**  
**Lições de Português, Francês e História**  
**4º ano**  
**Semana de 31 de março a 4 de abril de 2025**



Leia o texto a seguir para realizar as lições de Português desta semana.

## Após ser confundido com filhote de gato, puma passa por reabilitação

Animal foi adotado por família, que encaminhou para PM ambiental. Em Centro de triagem, cerca de 500 animais passam por reabilitação.

Uma filhota de puma foi confundida com um gato e adotada por uma família na Serra catarinense. Duas semanas depois, quando percebeu as diferenças, o animal foi entregue para a Polícia Militar Ambiental e encaminhado para o Centro de Triagem de Animais Silvestres de Florianópolis, onde permanecia até este sábado (22).

Encontrada com apenas alguns dias de vida, agora com três meses, a pequena puma já mostra nas brincadeiras a velocidade e a força características de grandes felinos. "Se a gente olhar é um gato, mas é um felino que pode chegar a 50 quilos, e que envolve risco para as pessoas. É bom encaminhar para um órgão responsável, pois pode haver, também, riscos para o animal", explica.



A Serra catarinense é o habitat desta espécie, mas ela não poderá voltar a viver na mata. "Ela tem os hábitos de qualquer gato doméstico, o que faz com que fique mais difícil de soltá-la. Existem alguns criadores conservacionistas que podem mantê-la com mais espaço", explica o sargento Marcelo.

No Centro de Triagem, cerca de 500 animais passam por reabilitação e são tratados por especialistas da PM, do Ibama e por voluntários. "Analisamos o caso de cada animal, avaliamos como será feita a reabilitação e se ele pode ser devolvido para a natureza", explica Ariana Fernandes, veterinária do Ibama.

<http://g1.globo.com/sc/santa-catarina/noticia/2014/02/apos-ser-confundido-com-filhote-de-gato-puma-passa-por-reabilitacao.html>. Acessado em março de 2024.

**Segunda-feira**  
**Curitiba, 31 de março de 2025.**  
**Copie e responda.**

- 1) O texto lido pertence a qual gênero textual? Justifique sua resposta.
- 2) De onde esse texto foi retirado? E em que ano foi publicado?

### Terça-feira

Curitiba, 1º de abril de 2025.

**Copie e responda.**

- 1) Por que a família que adotou o puma decidiu entregá-lo para a Polícia Militar Ambiental?
- 2) Segundo a notícia, a filhota de puma apresenta alguns comportamentos característicos de grandes felinos. Quais são?

---

### Quarta-feira

Curitiba, 2 de abril de 2025.

**Copie e responda.**

**Releia o quarto parágrafo da notícia e responda:**

- 1) Quem deu a declaração a respeito dos hábitos da filhota encontrada?
- 2) Que pontuação foi utilizada para marcar esse discurso?

---

### Quinta-feira

Curitiba, 3 de abril de 2025.

**Releia o último parágrafo da notícia:**

No Centro de Triagem, cerca de 500 animais passam por **reabilitação** e são tratados por especialistas da PM, do Ibama e por voluntários. "Analisamos o caso de cada animal, avaliamos como será feita a reabilitação e se ele pode ser devolvido para a natureza", explica Ariana Fernandes, veterinária do Ibama.

**Copie e responda.**

- 1) O que significa dizer que os animais passam por reabilitação? Se necessário, consulte um dicionário.
- 2) Qual é o procedimento adotado para auxiliar na recuperação dos animais no Centro de Triagem, de acordo com a veterinária do Ibama?

---

### **Vendredi - Français**


Curitiba, le 4 avril 2025

**Thème : se présenter**

**1. Copie et répondez avec des phrases complètes :**

- a) Comment tu t'appelles ?
- b) Tu as quel âge ?
- c) Tu as des frères et sœurs ?
- d) Tu fais du sport ?

 **Conseil :**



Consulte l'exercice 3 de la page 3 de ton **cahier d'activités Zig Zag 2+** pour voir comment on peut répondre à ces questions.

## Sexta-feira / **História**

Curitiba, 4 de abril de 2025.

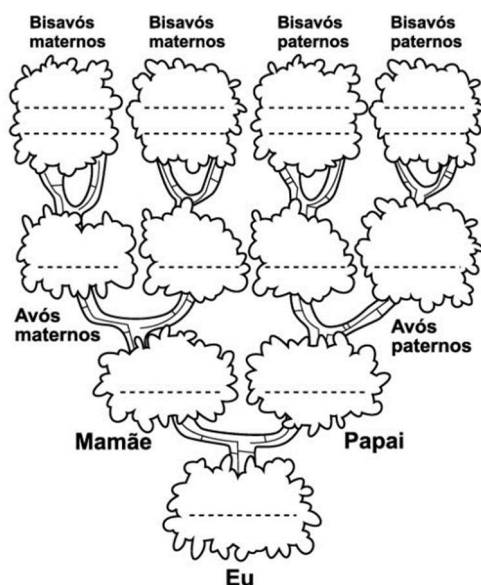
TEMA: **Idade Média**

1) Leia o texto abaixo:

A árvore genealógica é uma lista de linhagem, geralmente representada como uma árvore ramificada, onde são colocados os nomes dos descendentes de uma família a partir de um ancestral comum. O interesse pela genealogia já existia na Antiguidade, mas foi na Idade Média cristã que se difundiu o costume, entre a nobreza senhorial, da árvore genealógica. Era importante os senhores mostrarem sua origem para participarem da ordem de cavalaria e dos altos postos na Igreja, receberem heranças, reivindicarem domínios e títulos, terem direito à sucessão política e até na contratação de casamentos nobres. A busca de ancestrais importantes e até lendários, mesmo que muito distantes, levava ocasionalmente a alegações absurdas de ancestralidade. A história da sociedade medieval é a história das principais linhagens familiares. A linhagem mantinha o trono por hereditariedade e legitimava os domínios por heranças e casamentos, muito mais que por conquistas.


Adaptado de: <https://ensinarhistoria.com.br/outros-legados-da-idade-media-parte-2/#3> para fins didáticos.

2) Agora é sua vez: com ajuda da sua família, desenhe a sua árvore genealógica. Você pode seguir o modelo abaixo ou modificá-lo, dependendo da formação da sua família. Mãos à obra! :)



## Vivência Religiosa

Segue em anexo. Entregar na segunda-feira.



**Lições de Matemática e Ciências – 4º ano**  
**Semana de 31 de março a 4 de abril**

**Leia o texto e a tabela com atenção para resolver as lições de Matemática da semana.**

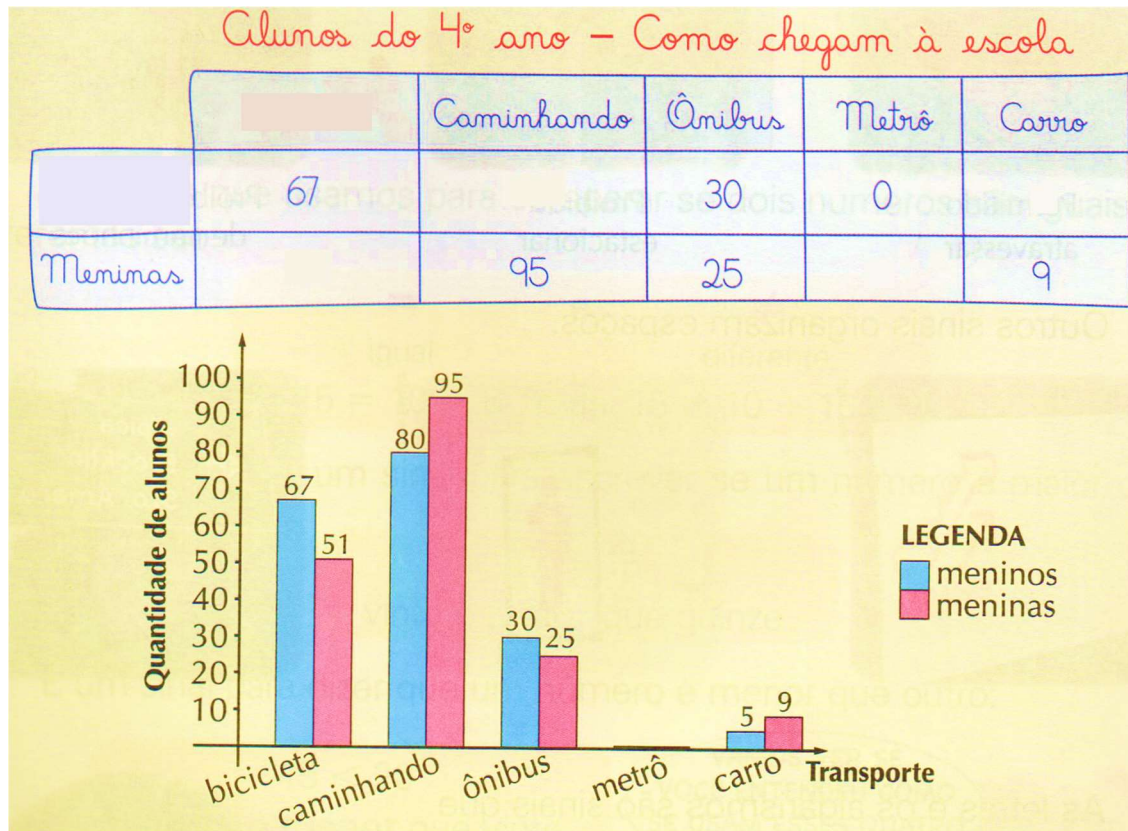
Cláudia e sua turma fizeram uma pesquisa para saber como os colegas do 4º ano de uma cidade de São Paulo chegavam à escola: a pé, de ônibus, metrô, bicicleta ou carro.

**Segunda-feira**

**Curitiba, 31 de março de 2025.**

**Copie e resolva:**

Compare a tabela com o gráfico a seguir e complete-a com os dados que estão faltando.



**ANEXO**

**Obs.: Complete a tabela também nesta folha de lição.**

**Terça-feira**

**Curitiba, 1º de abril de 2025.**

**Copie e responda:**

- Qual é o meio de locomoção mais utilizado pelos alunos do 4º ano? Por que você acha que a maioria prefere esse meio de locomoção?
- Quantos alunos vão de bicicleta para a escola?



**Quarta-feira**

**Curitiba, 2 de abril de 2025.**

**Copie e responda:**

Quantos alunos foram entrevistados?

---

**Quinta-feira**

**Curitiba, 3 de abril de 2025.**

**Copie e responda:**

Quantas meninas a menos utilizam a bicicleta em relação aos meninos?

---

**Sexta-feira / Ciências**

**Curitiba, 4 de abril de 2025.**

**1) Leia o parágrafo abaixo para responder à questão a seguir:**

## Esgoto polui praias de Natal

A Praia de Areia Preta a cada dia que passa vem perdendo frequentadores. São poucos os que se arriscam a tomar banho no local, principalmente, na área próxima ao Relógio do Sol, onde há uma galeria pluvial contaminada por ligações clandestinas de esgotos que deságuam na praia.

[...]

### Vocabulário

**Clandestino:** feito escondido, de modo ilegal.



Ana Silva/Tribuna do Norte

Praia de Areia Preta

Justiça Federal do Rio Grande do Norte. Obtido em:  
<[www.jfrn.gov.br](http://www.jfrn.gov.br)>. Acessado em: 10/09/2007.

**2) Copie e responda:**

Em sua opinião, é seguro brincar na água dessa praia, perto do local onde o esgoto está sendo despejado? Por quê?

## Alunos do 4º ano - Como chegam à escola

		Caminhando	Ônibus	Metrô	Carro
	67		30	0	
Meninas		95	25		9

