



PORTUGUÊS

Leia a notícia a seguir para realizar as lições de Português desta semana.

Navio de dois mil anos é achado na Itália

Cargueiro romano carregava centenas de peças intactas

Kátia Calsavara

Jornalista que produziu a notícia

No final de julho, os destroços de um antigo navio romano com mais de dois mil anos foram encontrados na costa da Itália, em Civitavecchia, a cerca de 80 km de Roma.

No cargueiro, que data do século I e II, estavam centenas de ânforas, um tipo de jarro com duas alças, feito de terracota (mistura de argila) e muito usado antigamente para transportar líquidos, como vinho e azeite. O mais incrível é que a maioria das peças estava intacta.

A embarcação tem mais de 20 metros de comprimento e foi encontrada a cerca de 160 metros de profundidade com a ajuda de vários equipamentos de alta tecnologia, entre eles um robô controlado remotamente.

A descoberta foi considerada de grande "significado artístico e histórico", afirmam arqueólogos. A região da costa mediterrânea da Itália está repleta de "tesouros" nas profundezas do mar que são patrulhados regularmente pela polícia, para evitar roubos. Em 2021, mais dois navios antigos com ânforas foram descobertos na costa de Palermo e próximo à ilha de Ustica.

NAVIO DE DOIS MIL ANOS É ACHADO NA ITÁLIA

Cargueiro romano carregava centenas de peças intactas



KATIA CALSAVARA

No final de julho, os destroços de um antigo navio romano com mais de dois mil anos foram encontrados na costa da Itália, em Civitavecchia, a cerca de 80 km de Roma.

No cargueiro, que data do século I e II, estavam centenas de ânforas, um tipo de jarro com duas alças, feito de terracota (mistura de argila) e muito usado antigamente para transportar líquidos, como vinho e azeite. O mais incrível é que a maioria das peças estava intacta!

A embarcação tem mais de 20 metros de comprimento e foi encontrada a cerca de 160 metros de profundidade com a ajuda de vários equipamentos de alta tecnologia, entre eles um robô controlado remotamente.

A descoberta foi considerada de grande "significado arqueológico, artístico e histórico", afirmam arqueólogos. A região da costa mediterrânea da Itália está repleta de "tesouros" nas profundezas do mar que são patrulhados regularmente pela polícia, para evitar roubos. Em 2021, mais dois navios antigos com ânforas foram descobertos na costa de Palermo e próximo à ilha de Ustica.

Texto original, capturado da revista *Qualé*.

Fonte: Revista *Qualé*. Edição 69. 7 a 21 de agosto de 2023.

Veículo de comunicação / onde a notícia foi publicada

Quando a notícia foi publicada

Segunda-feira

Curitiba, 01 de junho de 2026.

No seu caderno de lição, copie e responda.

1- Complete o quadro abaixo com as informações sobre a notícia lida.

Manchete (título)	
Linha fina (subtítulo)	
Quem escreveu a notícia?	
Onde a notícia foi publicada (veículo de comunicação)?	
Quando a notícia foi publicada (mês e ano)?	

anexo

2- Releia o **primeiro parágrafo** da notícia (*lide*) e responda: qual o fato noticiado? Quando e onde ele ocorreu?

Terça-feira

Curitiba, 02 de junho de 2026.

Releia o segundo parágrafo da notícia.

No **cargueiro**, que data do século I e II, estavam centenas de ânforas, um tipo de jarro com duas alças, feito de terracota (mistura de argila) e muito usado antigamente para transportar líquidos, como vinho e azeite. O mais incrível é que a maioria das peças estava intacta.

No seu caderno de lição, copie e responda.

1- A quem se refere a palavra destacada no trecho acima? Que outro termo foi usado na notícia como sinônimo dessa palavra?

2- Além de o navio ser tão antigo, o que foi considerado mais surpreendente nessa descoberta?

3- Leia e faça o que se pede.

Você já conhecia o significado da palavra ânfora? Pela descrição apresentada no trecho acima, represente esse objeto por meio de uma ilustração.

Quarta-feira

Curitiba, 03 de junho de 2026.

Releia.

A descoberta foi considerada de grande "significado artístico e histórico", afirmam arqueólogos. A região da costa mediterrânea da Itália está repleta de "tesouros" nas profundezas do mar que são patrulhados regularmente pela polícia, para evitar roubos.

No seu caderno de lição, copie e responda:

1- No trecho acima, há uso de **aspas**. **Copie apenas a alternativa correta.**

- () No primeiro caso, as aspas foram usadas para indicar citação direta. No segundo caso, as aspas foram usadas para indicar sentido figurado.
- () No primeiro caso, as aspas foram usadas para indicar significado de termo estrangeiro. No segundo caso, as aspas foram usadas para indicar título de um livro.
- () Em ambos os casos as aspas foram usadas para indicar citação direta.

2- Releia.

Em 2021, mais dois navios antigos com ânforas foram descobertos na costa de Palermo e próximo à ilha de Ustica.

- Reescreva o trecho acima, substituindo o numeral "dois" pelo numeral "um". Faça as adaptações necessárias.

3- Reescreva a **manchete** e a **linha fina** da notícia, substituindo as palavras sublinhadas por sinônimos, sem prejuízo de sentido. Se necessário, consulte um dicionário.

Navio de dois mil anos é achado na Itália

Cargueiro romano carregava centenas de peças intactas

Quinta-feira

Curitiba, 04 de junho de 2026.

Não haverá aula devido à celebração de Corpus Christi.

Sexta-feira

Curitiba, 05 de junho de 2026.

Recesso escolar.



Segunda-feira

Curitiba, 01 de junho de 2026.

No seu caderno de lição, copie e responda:

Um show de rock está sendo realizado em um estádio com capacidade para 6000 pessoas. Já entraram 3328 pessoas, e 1834 ainda estão do lado de fora esperando para entrar. Haverá lugar para todas as pessoas no estádio? Calcule e justifique a sua resposta.

Terça-feira

Curitiba, 02 de junho de 2026.



No seu caderno de lição, copie e responda.

1) Um caminhoneiro percorreu uma distância de 1586 km em três etapas: 565 km na primeira etapa, 528 km na segunda e o restante na terceira etapa. Quantos quilômetros ele percorreu na terceira etapa? Apresente os cálculos.

2) Relacione as frações impróprias e os números mistos às quantidades correspondentes:

a) $2\frac{1}{2}$	()	
b) $\frac{7}{6}$	()	
c) $3\frac{3}{4}$	()	
d) $\frac{13}{5}$	()	
e) $\frac{17}{3}$	()	

(ANEXO)

Quarta-feira

Curitiba, 03 de junho de 2026.

No seu caderno de lição, copie e responda.

Uma floricultura recebeu uma encomenda de 12 dúzias de rosas amarelas e 12 dúzias de rosas vermelhas. As rosas serão divididas igualmente em 8 rosas em cada um. Quantos buquês poderão ser formados? Apresente os cálculos.



Quinta-feira

Curitiba, 04 de junho de 2026.

Não haverá aula devido à celebração de Corpus Christi



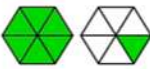
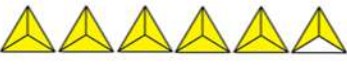
Sexta-feira

Curitiba, 05 de junho de 2026.

Recesso escolar.

Anexos

Manchete (título)	
Linha fina (subtítulo)	
Quem escreveu a notícia?	
Onde a notícia foi publicada (veículo de comunicação)?	
Quando a notícia foi publicada (mês e ano)?	

a) $2\frac{1}{2}$	()	
b) $\frac{7}{6}$	()	
c) $3\frac{3}{4}$	()	
d) $\frac{13}{5}$	()	
e) $\frac{17}{3}$	()	