

**Lições de casa – 4ª semana – 3º ano**  
**Língua Portuguesa e Geografia**

**Segunda-feira (11/3)**

Curitiba, 11 de março de 2023.

**Apenas leia:** A professora do 3º ano fez uma caixinha de adivinhas e piadas para serem lidas durante a semana. Na hora de recortar os textos para colocar nas caixas os ajudantes perceberam que estavam faltando sinais de pontuação numa piada. Ajude as crianças a colocar os sinais de pontuação no local correto!

1) Copie o pequeno texto a seguir e no lugar do traço faça sinal de pontuação adequado.


**A Lua e o Sol**

O que diz a Lua ao Sol \_\_\_\_  
 “É tão grande e ainda assim não te deixam sair à noite \_\_\_\_”

**Terça-feira (12/3)**

Curitiba, 12 de março de 2023.

- 1) Veja as imagens a seguir. Cole-as em seu caderno e escreva os nomes dos objetos.
- 2) Agora escreva os nomes destes objetos no plural.



**Quarta-feira (13/3)**

Curitiba, 13 de março de 2023.


1) Qual é o efeito de humor usado na piada da lição de casa de segunda-feira?

**Quinta-feira (14/3) – Geografia**

Curitiba, 14 de março de 2024.

1) A sigla UF é de Unidade da Federação. Siga o exemplo e identifique a sigla UF de cada estado.

Ficou com dúvida? Utilize o caderno de estudos. 😊




PR	Paraná	
RO		SC
AC		RS
AM		SP
RR		RJ
PA		AL
AP		PE
TO		PB
MA		RN
PI		CE
MS		SE
DF		BA
GO		
MT		
ES		
MG		

**Sexta-feira (15/3) – Ensino Religioso**

**Lições de casa – 4ª semana – 3º ano  
Matemática e Ciências**

**Texto para os problemas da semana**

**Leia:** Emanuelle possui uma coleção de borrachas de diversos tipos. Dentre elas há os modelos de estrelinhas, florzinhas, biscoitos, peixinhos e joaninhas. Veja a imagem. A partir destas imagens responda as questões abaixo.



**Segunda-feira - (11/3)**

Curitiba, 11 de março de 2024.

- 1) Quantas borrachas Emanuelle tem ao todo?
- 2) Se Emanuelle decidisse doar uma borracha de cada tipo para sua amiga Elisa, com quantas borrachas ela ainda ficaria?

**Terça-feira - (12/3)**

Curitiba, 12 de março de 2024.

- 1) Se a mãe de Emanuelle comprasse mais 5 borrachinhas de joaninhas, com quantas borrachas deste tipo ela ficaria?
- 2) Qual seria a quantidade de borrachas ao todo em sua coleção de borrachas?

**Quarta-feira - (13/3)**


Curitiba, 13 de março de 2024.

- 1) A prima de Emanuelle possui o **dobro** de borrachas de sua coleção. Quantas borrachas a prima dela possui?
- 2) Se Emanuelle decidisse vender 5 de suas borrachas por dois reais cada, quantos reais ela receberia?

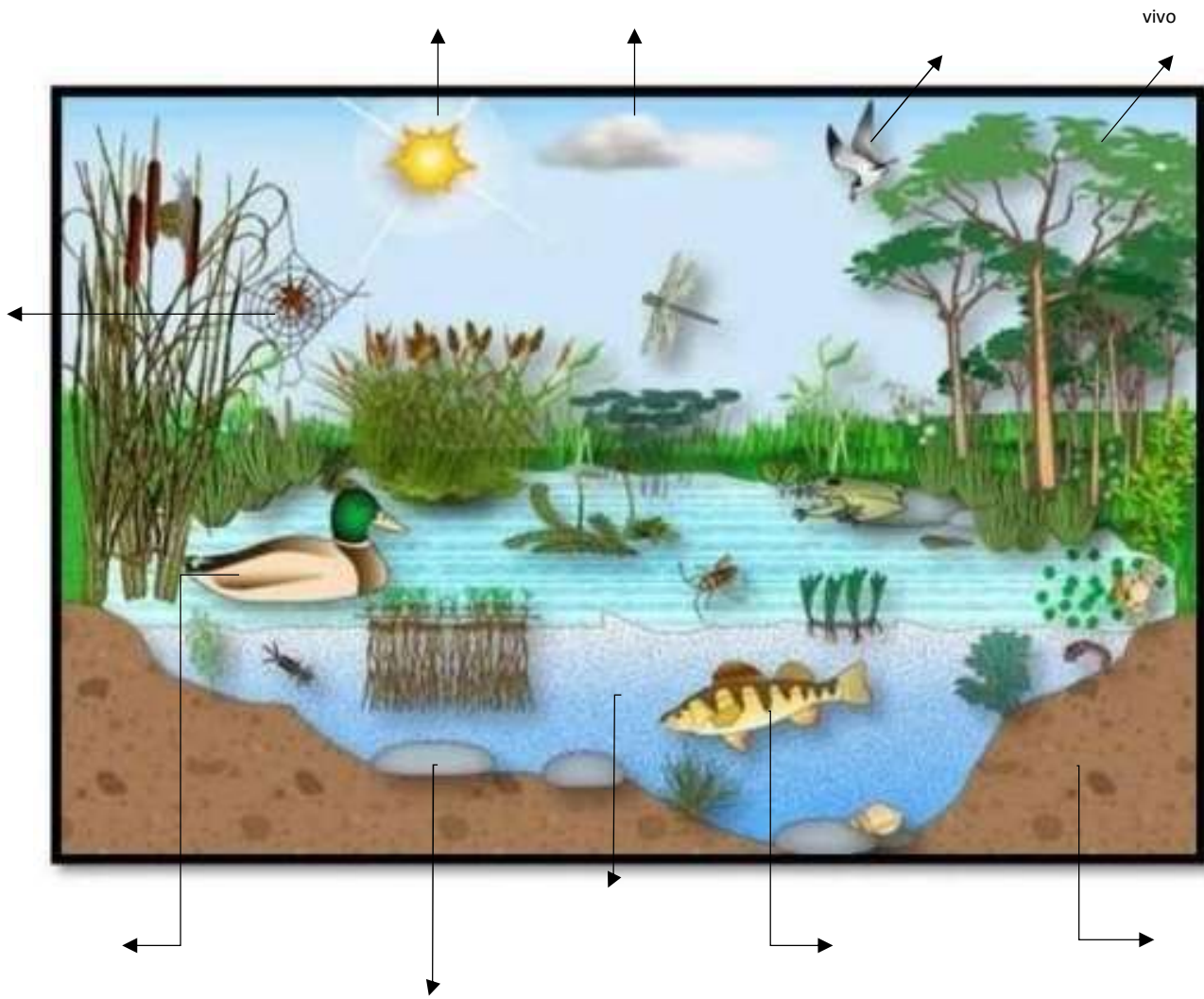
**Quinta-feira (14/3) – Ciências**

Curitiba, 14 de março de 2024.

- 1) Observe a imagem do ecossistema abaixo e classifique em ser vivo e não-vivo. Siga o exemplo.



**Sexta-feira (15/3) – Ensino Religioso**



vivo

PR Paraná

- |    |    |
|----|----|
| RO | SC |
| AC | RS |
| AM | SP |
| RR | RJ |
| PA | AL |
| AP | PE |
| TO | PB |
| MA | RN |
| PI | CE |
| MS | SE |
| DF | BA |
| GO |    |
| MT |    |
| ES |    |
| MG |    |