

Lições de casa – 11ª semana – 3º ano
Língua Portuguesa e Geografia

Leia o texto a seguir para realizar as tarefas da semana.



Oficina do Papai Noel

QUERIDA RENATA,

Feliz Natal!



Seus pais escreveram-me para dizer que você se comportou bem neste ano. Meus elfos relataram a mesma coisa! Você sabe o que isso significa, certo? Além da minha felicidade e orgulho em vê-la crescer e ser uma boa pessoa, ficará feliz em saber que eu já coloquei seu presente no meu trenó, tudo pronto para ser entregue.

Espero que continue sendo o orgulho e a alegria dos seus pais, além de uma inspiração para outras crianças.

SEU AMIGO,

Papai Noel

*P.S. Eu amei os biscoitos do ano passado.
Alguma chance de você ter mais desses?*



Segunda-feira - (29/4)

Curitiba, 29 de abril de 2024.

- 1) Quem é o destinatário da carta?
- 2) Reescreva a frase que indica que o Papai Noel gosta de biscoitos.

Terça-feira - (30/4)

Curitiba, 30 de abril de 2024.

- 1) O que o Papai Noel quis dizer na frase: "Você sabe o que isso significa, certo?"
- 2) Faça a análise morfológica das palavras em destaque:

Seus pais escreveram para o Papai Noel.

Quarta-feira - (1º/5) - Feriado

Quinta-feira – (2/5) – Geografia

Curitiba, 2 de maio de 2024.



a) Em qual festividade famosa no Brasil, podemos ver as escolas de samba e suas bandeiras?

b) Desenhe sua própria bandeira e não esqueça de colorir. Capriche!

ESTA É A BANDEIRA DEFINITIVA DA PORTELA E FOI DESENHADA EM 1931 POR ANTÔNIO CAETANO, DESENHISTA DA MARINHA E UM DOS FUNDADORES DA ESCOLA DE SAMBA PORTELA DO RIO DE JANEIRO.

Sexta-feira – (3/5) – Ensino Religioso

Lições de casa – 11ª semana – 3º ano Matemática e Ciências

Segunda-feira - (29/4)

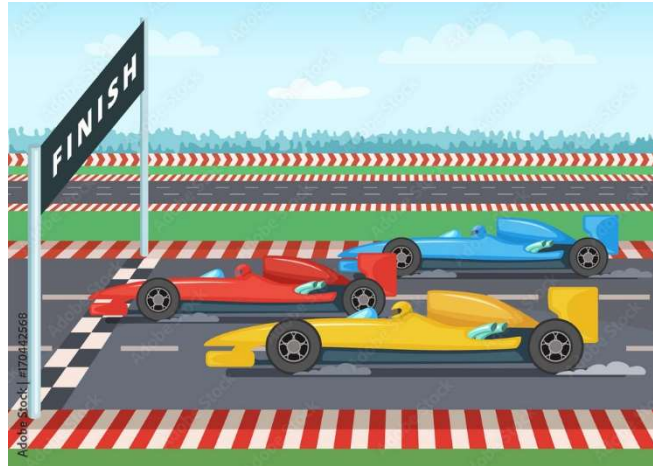
Curitiba, 29 de abril de 2024.

- 1) Se você está em uma corrida de carros e ultrapassa o segundo colocado, em qual posição você fica? Faça uma ilustração representando sua posição.

Terça-feira - (30/4)

Curitiba, 30 de abril de 2024.

- 1) De acordo com a imagem, qual carro está ocupando a primeira posição?



- 2) Se nesta corrida há 20 carros no total e apenas 3 estão sendo representados na imagem, quantos carros restam atrás destes?

Quarta-feira - (1º/5) - Feriado

Quinta-feira – (2/5) – Ciências

Curitiba, 2 de maio de 2024.

- 1) Observe a imagem.
a) Segundo a tirinha, é pior uma centopeia com dor nos pés do que uma girafa com dor na garganta. Você concorda com esta afirmação? Explique com suas palavras o porquê.



Sexta-feira – (3/5) – Ensino Religioso