

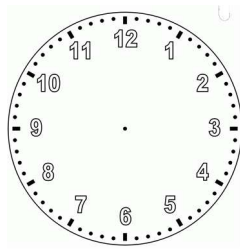
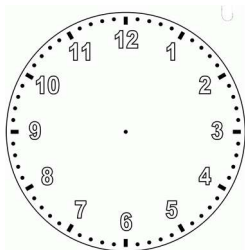
**Lições de casa – 12ª semana – 3º ano  
Matemática e Geografia**

Isabela foi ao cinema assistir ao filme que está cartaz.

**Segunda-feira - (6/5)**

Curitiba, 6 de maio de 2024.

1) Para assistir ao filme Isabela pegou a sessão das 14h. Sabendo que o filme tem a duração de 1 hora e 33 minutos marque nos dois relógios abaixo o horário em que o filme começou e o horário em que ele terminou.



**Terça-feira - (7/5)**

Curitiba, 7 de maio de 2024.

- 1) A sala de cinema que Isabela assistirá o filme comporta 730 pessoas, mas para este filme apenas 347 ingressos foram vendidos. Quantos lugares sobrarão?
- 2) Das 347 pessoas que assistirão o filme 333 compraram pipoca e as demais decidiram comprar outras guloseimas. Quantas pessoas não comerão pipoca?

**Quarta-feira - (8/5)**

Curitiba, 8 de maio de 2024.

- 1) Isabela foi ao cinema com suas amigas Elisa e Luana, as três estão acompanhadas de suas mães. Cada uma delas comprou uma pipoca e um refrigerante. Quantas pipocas e refrigerantes todas possuem juntas?
- 2) Acesse o link a seguir ou o QR code e jogue o jogo “Missão Relógio”, depois escreva abaixo o que achou do jogo.

<https://www.escolagames.com.br/jogos/missao-relogio>



**Quinta-feira – (9/5) – Geografia**

Curitiba, 9 de maio de 2024.

1) Complete o mapa da região Centro-Oeste. Pinte a legenda e o mapa de acordo. Cole em seu caderno. Caso necessário, você pode fazer uma pesquisa.

REGIÃO CENTRO-OESTE



**Sexta-feira – (10/5) – Ensino Religioso**

## Lições de casa – 12ª semana – 3º ano

### Língua Portuguesa e Ciências


Fábula  
**A onça doente**

A onça caiu da árvore e por muitos dias esteve de cama seriamente doente. E como não podia caçar, padecia de fome das negras.

Em tais apuros imaginou um plano, chamou a irara e disse:  
- Comadre irara, corra o mundo e diga à bicharada que estou quase a morrer e que exijo que me venham visitar.  
A irara partiu, deu o recado e os animais, um a um, principiaram a visitar a onça.  
Vem o veado, vem a capivara, vem a cotia, vem o javali. Veio também o jabuti.

Mas o jabuti, antes de entrar na toca, teve a lembrança de olhar para o chão. Viu na poeira só rastros entrantes, não viu nenhum rasto saindo da toca. E desconfiou:  
- Hum!... Parece que nesta casa quem entra não sai.  
O melhor, em vez de visitar a nossa querida onça doente, é ir rezar por ela.  
E foi o único que se salvou.

Fábulas, Monteiro Lobato; 1994



### rasto

Sinal; vestígio ou pegada que, ao caminhar, é deixada por: rasto de onça.  
Sinal; todo indício que marca a passagem de: rasto de navio.



#### Segunda-feira - (6/5)

Curitiba, 6 de maio de 2024.

- 1) Leia o texto para responder as questões.
- 2) Por que a onça estava seriamente doente?

#### Terça-feira - (7/5)

Curitiba, 7 de maio de 2024.

- 1) Por que a onça estava passando fome?
- 2) Qual foi o plano que ela criou para saciar a sua fome?

#### Quarta-feira - (8/5)

Curitiba, 8 de maio de 2024.

- 1) Como foi que o jabuti se salvou do plano da onça?
- 2) Escolha um dos animais da fábula e faça um desenho bem caprichado do animal.

#### Quinta-feira – (9/5) – Ciências

Curitiba, 9 de maio de 2024.

- 1) Leia o trecho abaixo.

Com uma trama circular, a chamada teia orbicular é uma das mais comuns. Você não só viu muitas delas por aí, como provavelmente pensa nesse tipo quando o assunto surge. Apesar da arquitetura complexa, muitas das aranhas que tecem teias orbiculares montam a estrutura ao anoitecer e a desmontam antes do amanhecer, em um processo que se repete diariamente. “Elas comem a própria teia, uma vez que a construção demanda um grande gasto de energia por parte do animal”, revela Antonio Brescovit.



- a) De qual estilo de teia o trecho está falando?
- b) Faça um desenho de uma teia de aranha no estilo citado.

#### Sexta-feira – (10/5) – Ensino Religioso

# ANEXOS

## REGIÃO CENTRO-OESTE

