

Lições de casa – 13ª semana – 4º ano
Matemática e Geografia

Segunda-feira - (13/5)

Curitiba, 13 de maio de 2024.

1) Neste mapa, estão representados os cruzamentos de algumas ruas e avenidas de uma cidade. Copie as frases substituindo o * pelas palavras paralela ou perpendicular.

- A avenida Avestruz é * à rua das Araras.
- A rua Sabiá é * à avenida Gaivota e * à rua Pardal.
- A rua Papagaio é * à rua Canário e * à avenida Andorinha.
- A rua Tucano não é * nem * à avenida Beija-flor.

2) Trace uma reta na rua das Araras e outra na avenida Beija-flor. Quais ângulos essas retas formam: agudos, retos ou obtusos?

3) Trace uma reta na rua Tucano e outra na rua Bem-te-vi, qual ângulo você encontrou? Agudo, reto ou obtuso?

Recorte e cole o anexo em seu caderno.



Terça-feira - (14/5)

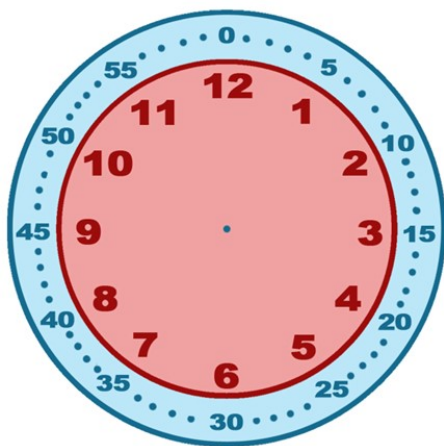
Curitiba, 14 de maio de 2024.

1) A festa de aniversário de Alice começou às 15h30. Maria chegou às 15h10 e Júlia chegou às 16h15.

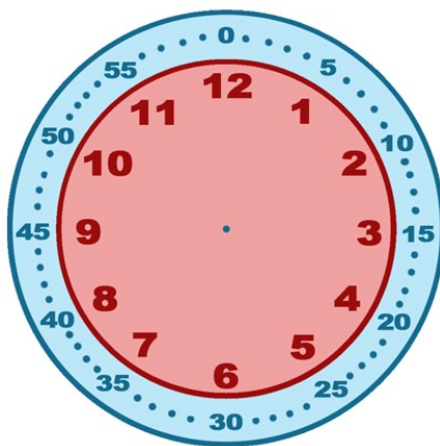
- Marque nos relógios os horários em que as meninas chegaram na festa.
- Escreva os horários que você marcou no relógio por extenso.
- Qual das meninas chegou atrasada? Quanto tempo?
- Dos horários que você marcou, em qual deles podemos observar um ângulo reto formado pelos ponteiros?

Recorte e cole o anexo em seu caderno.

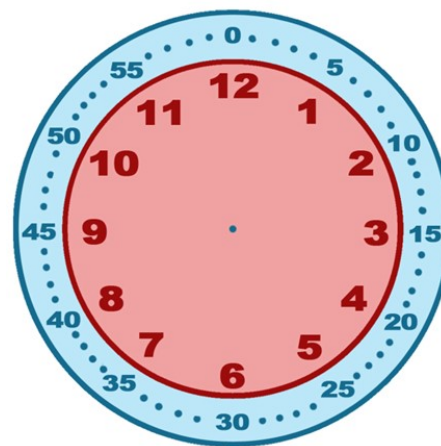
Início da festa



Chegada de Maria



Chegada de Júlia



Quarta-feira - (15/5)

Curitiba, 15 de maio de 2024.

- 1) Para a festa de Alice, dona Luzia fez 48 cupcakes e precisa guardá-los em 4 caixas para fazer a entrega. Quantos cupcakes ela poderá guardar em cada caixa?
- 2) Se cada cupcake custou R\$ 5,00; quanto Luzia recebeu para fazer todos os cupcakes?

Quinta-feira – (16/5) – Geografia

Curitiba, 16 de maio de 2024.

- 1) Copie as frases e coloque corretamente os termos: limite, divisa e fronteira.

Curitiba faz _____ com o município de São José dos Pinhais.

O estado do Rio de Janeiro faz _____ com São Paulo.

Entre o Paraguai e O Brasil tem um rio que faz a _____ entre esses dois países.

Sexta-feira – (17/5) – Ensino Religioso

**Lições de casa – 13ª semana – 4º ano
Língua Portuguesa e Ciências**

Texto para as lições da semana.

Homo Habilis – Considerado o primeiro representante do gênero *Homo*. Viveu há cerca de 2 milhões de anos, na África. Foi chamado de *homo habilis*, no sentido de habilidoso, por ter construído os primeiros instrumentos de pedra e madeira utilizados na prática da caça, incluindo assim a carne na sua alimentação.



Imagem: Reconstrução de um Homo Habilis / Autor: Photographed by User:Lilyndfrefya / Creative Commons Attribution-Share Alike 3.0 Unported.



Imagem: Crânio de um Homo Habilis no Museu de Antropologia Pré-histórica em Mônaco / Autor: Georges Jansoone / Creative Commons Attribution 3.0 Unported.

Homo Sapiens Neandertal

Muitos restos de esqueletos foram encontrados em cavernas, daí a expressão “homem das cavernas”. Praticava a caça e a coleta em grupos de 20 a 30 pessoas. Fazia sepulturas cobertas de pedra e terra para seus mortos, por isso se acredita que tenha sido a primeira espécie a realizar cerimônias religiosas.



Imagem: (Homo Sapiens Neanderthalensis) crânio no Museu Nacional de História Natural, Viena Palace, República de Áustria / Autor: Emöke Dénes / Creative Commons Attribution-Share Alike 2.5 Generic.



Imagem: Primeira reconstrução do homem de Neandertal / Autor: Hermann Schaaffhausen / public domain.

Segunda-feira - (13/5)

Curitiba, 13 de maio de 2024.

1) Copie as sentenças abaixo e **faça o que se pede:**

Viveu há cerca de 2 milhões de anos, na África.

Praticava a caça e a coleta em grupos de 20 a 30 pessoas.

- Circule os verbos.
- Escreva a quem os verbos estão se referindo.
- Reescreva as sentenças colocando-as no plural.

Terça-feira - (14/5)

Curitiba, 14 de maio de 2024.

- 1) Quais as principais diferenças entre o *homo habilis* e o *homo sapiens neandertal*?
- 2) Quais características de cada um deles se manteve em nossa espécie (*homo sapiens sapiens*)?

Quarta-feira - (15/5)

Curitiba, 15 de maio de 2024.

- 1) Por que o *homo habilis* foi nomeado assim?
- 2) Leia e faça o que se pede:

Você imagina que no futuro a espécie humana continuará evoluindo? Imagine como seria esta nova espécie e que nome ela teria. Escreva um pequeno parágrafo descrevendo as características desta nova espécie e ilustre-a.

Quinta-feira – (16/5) – Ciências

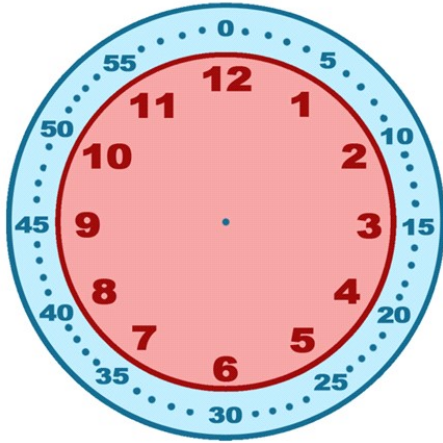
Curitiba, 16 de maio de 2024.

- 1) Acesse o link ou QR code a seguir explicando a diferença entre dengue e gripe, duas viroses que têm acontecido com grande frequência no Brasil.
- 2) Agora monte uma tabela explicando a diferença entre as duas viroses e faça uma ilustração que as represente.

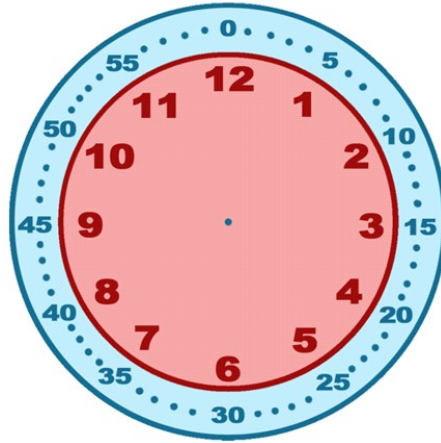


Sexta-feira – (17/5) – Ensino Religioso

Início da festa



Chegada de Maria



Chegada de Júlia

