

**Lições de casa – 25ª semana – 4º ano**  
**Matemática e História**

**Segunda-feira - (9/9)**

Curitiba, 9 de setembro de 2024.

1) Pedro está pintando a parede do seu quarto de verde. Para facilitar dividiu-a em dez partes. Observe na imagem ao lado.



- Qual é a fração que representa a parte que está pintada de verde?
- Qual é a fração que representa a parte que ainda precisa ser pintada?
- Transforme as duas frações em números decimais. Depois, escreva-os por extenso.

**Terça-feira - (10/9)**

Curitiba, 10 de setembro de 2024.

1) Três amigos foram ao cinema. A entrada custa R\$ 28,00, mas os três são estudantes e pagaram meia entrada cada um.

Dica: Pagar meia entrada significa pagar metade do valor, ou seja, dividir o valor por 2.

- Quanto cada um pagou por sua entrada?
- Quanto os três gastaram ao todo por todas as entradas?

**Quarta-feira - (11/9)**

Curitiba, 11 de setembro de 2024.

1) Observe esta divisão e faça a operação inversa para conferir se o resultado está certo. Se estiver errado, refaça-a corrigindo o que for necessário.

$$\begin{array}{r} 69 \overline{) 3} \\ \underline{-6} \phantom{2} \\ 09 \phantom{2} \\ \underline{-6} \phantom{2} \\ 3 \phantom{2} \end{array}$$

**Quinta-feira – (12/9) – História**

Curitiba, 12 de setembro de 2024.

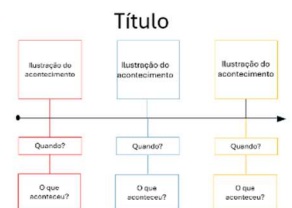
Recorte e cole os anexos em seu caderno organizando-os cronologicamente.

O Tratado de Tordesilhas foi um acordo assinado em 7 de junho de 1494 entre Portugal e Espanha, que tinha como objetivo dividir as terras do Novo Mundo, encontradas por Cristóvão Colombo, entre os dois países a fim de evitar conflitos.

Pedro Álvares Cabral chegou ao atual Brasil em 22 de abril de 1500. Ele liderou uma frota portuguesa que tinha como objetivo inicial seguir para as Índias, mas durante a viagem desviou-se para oeste e acabou chegando à região que hoje chamamos de Porto Seguro, na Bahia.

Cristóvão Colombo chegou à atual América em 12 de outubro de 1492, acreditando ter encontrado uma nova rota para as Índias, que era o objetivo original de sua viagem.

2) Crie uma linha do tempo onde os três fatos mencionados no exercício anterior apareçam em ordem cronológica. Veja o exemplo:



**Sexta-feira – (13/9) – Ensino Religioso**

**Lições de casa – 25ª semana – 4º ano**  
**Língua Portuguesa e Ciências**

**Leia o poema mensal Menino azul – Cecília Meireles para responder as questões.**

**Segunda-feira - (9/9)**

Curitiba, 9 de setembro de 2024.

- 1) No poema, Cecília Meireles mostra o desejo de uma criança em ter o quê? Como ele queria que esse animal fosse?
- 2) Quais são as preposições que aparecem na segunda estrofe do poema?
- 3) Crie uma frase que tenha todas as preposições que encontrou na questão anterior.

**Terça-feira - (10/9)**

Curitiba, 10 de setembro de 2024.

- 1) Na quarta estrofe a autora compara o mundo com o quê? Você concorda com essa comparação, por quê?
- 2) Releia este trecho:

*“E os dois sairão pelo mundo.”*

- a) Faça a análise morfológica.
  - b) A sentença está em que tempo verbal?
  - c) Como ficaria o verbo se a sentença estivesse no passado?
- 3) No verso: “mas que saiba conversar.”, a palavra destacada introduz ideia de quê?

**Quarta-feira - (11/9)**

Curitiba, 11 de setembro de 2024.

- 1) **Apenas leia e faça o que se pede:** Na última estrofe a autora faz um pedido para quem encontrar um burrinho como esse. Digamos que você encontra um animalzinho que tem as características que o menino pede. Escreva uma carta para o Menino Azul, mostrando como é o animal que você encontrou, pode fazer um desenho. Utilize a folha de carta enviada em anexo para isso. Dobre nas linhas pontilhadas e escreva na parte de dentro.

*Destinatário: a quem se destina, para quem você vai enviar a carta.*

*Remetente: a quem se remete, pessoa que escreve a carta.*

**Quinta-feira – (12/9) – Ciências**

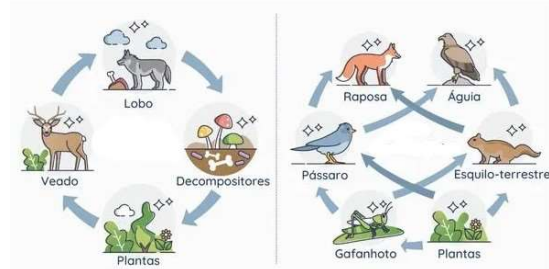
Curitiba, 12 de setembro de 2024.

- 1) Cole o anexo em seu caderno e identifique qual está demonstrando uma cadeia alimentar e qual está demonstrando uma teia alimentar.

a) Que elemento está faltando na teia alimentar? **Escreva somente a resposta correta:**

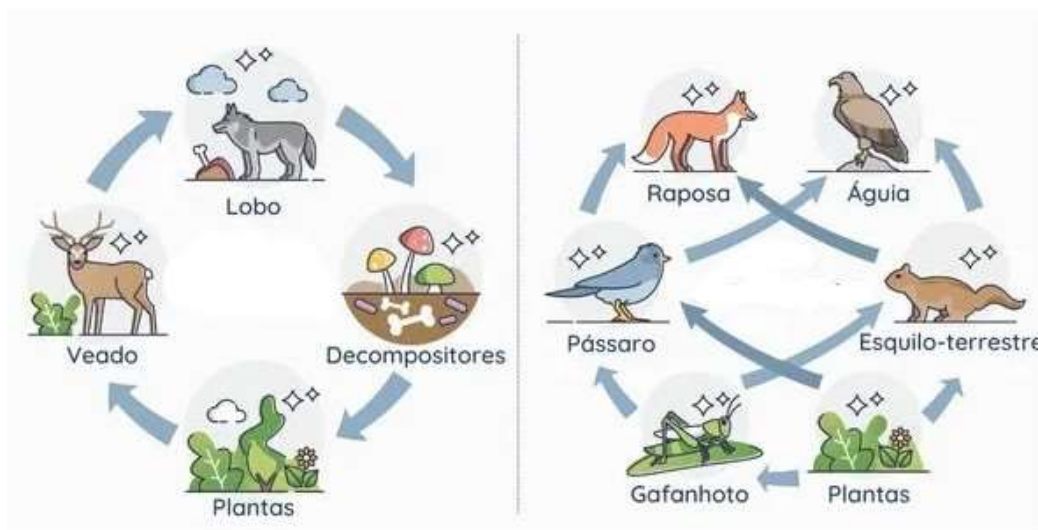
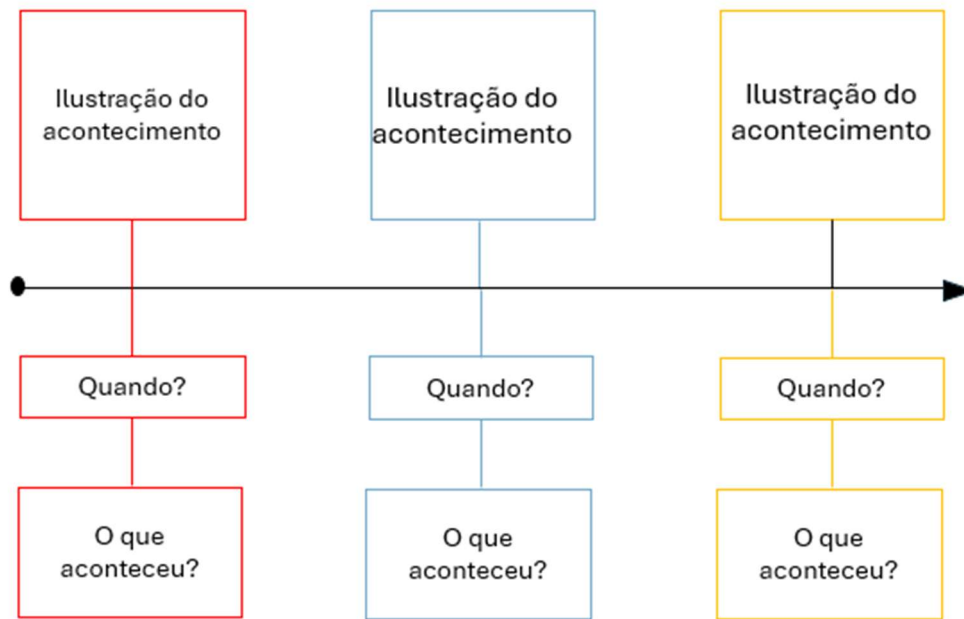
**PRODUTOR, CONSUMIDOR ou DECOMPOSITOR.**

- b) É mais correto afirmar que o decompositor está no final das cadeias e teias alimentares ou que ele está envolvido em toda a cadeia/teia alimentar? Justifique sua resposta.



**Sexta-feira – (13/9) – Ensino Religioso**

# Título



O Tratado de Tordesilhas foi um acordo assinado em 7 de junho de 1494 entre Portugal e Espanha, que tinha como objetivo dividir as terras do Novo Mundo, encontradas por Cristóvão Colombo, entre os dois países a fim de evitar conflitos.

Pedro Álvares Cabral chegou ao atual Brasil em 22 de abril de 1500. Ele liderou uma frota portuguesa que tinha como objetivo inicial seguir para as Índias, mas durante a viagem desviou-se para oeste e acabou chegando à região que hoje chamamos de Porto Seguro, na Bahia.

Cristóvão Colombo chegou à atual América em 12 de outubro de 1492, acreditando ter encontrado uma nova rota para as Índias, que era o objetivo original de sua viagem.

Destinatário:

Rua:

Número:

Remetente: