

Lições de casa – 26ª semana – 4º ano
Matemática e Geografia

Leia o cartaz do Circo para os problemas da semana.

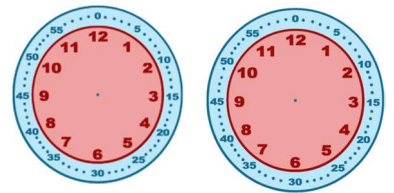


Segunda-feira - (16/9)

Curitiba, 16 de setembro de 2024.

1) Copie e responda:

- Em quais dias o circo abrirá?
- Marque nos relógios a seguir o horário que o circo abrirá suas portas ao público e o horário que fechará. Depois, recorte o anexo e cole em seu caderno.
- O circo ficará aberto por quantas horas ao dia? E nos três dias por quantas horas ficará aberto ao todo?



Terça-feira - (17/9)

Curitiba, 17 de setembro de 2024.

1) Observe as frações e responda:

$$\frac{12}{10} \quad \frac{8}{10} \quad \frac{30}{10} \quad \frac{24}{100} \quad \frac{123}{100}$$

- Quais são as frações próprias?
- Quais são as frações impróprias?

c) Escreva as frações que correspondem aos números decimais abaixo:

- 1,23 –
- 3,0 –
- 0,8 –

d) Escolha um número decimal e uma fração para escrever por extenso.

Quarta-feira - (18/9)

Curitiba, 18 de setembro de 2024.

Leia o texto da semana.

1) Marcelo, sua irmã, sua mãe e seu pai vão assistir ao espetáculo do dia 21. Sabendo que Marcelo e sua irmã têm menos de doze anos, quanto custarão as entradas de cada uma das crianças?

2) Quanto custarão as entradas de toda a família?

Quinta-feira – (19/9) – Geografia

Curitiba, 19 de setembro de 2024.

1) Desenhe um item que você utiliza para fazer a sua lição de casa e escreva do que ele é feito.

a) Que tipo de extrativismo está vinculado a produção deste objeto que escolheu?

Sexta-feira – (20/9) – Ensino Religioso

**Lições de casa – 26ª semana – 4º ano
Língua Portuguesa e Ciências**

Leia a informação ao lado para realizar as tarefas da semana. Cole o anexo em seu caderno.

Segunda-feira - (16/9)

Curitiba, 16 de setembro de 2024.

1) Copie as sentenças e complete com ONDE ou AONDE.

- Não sei mesmo _____ ela está.
- Esqueci _____ deixei o meu celular.
- _____ você vai correndo desse jeito?
- _____ você estuda?
- _____ Márcio vai de bicicleta?

Onde

↓

Usado com verbos que indicam ideia de lugar, que indicam permanência.
Exemplo: onde ela está.

Aonde

↓

Usado com verbos que indicam movimento.
Exemplo: Aonde ela foi?

Terça-feira - (17/9)

Curitiba, 17 de setembro de 2024.

Leia a tirinha e responda:

- Por que nos dois primeiros quadrinhos foi utilizado ONDE e nos dois últimos foi usado o AONDE?
- Leia a última fala: 'Aonde o caminho nos levar'. O pronome oblíquo *nos*, está se referindo a quem?



Quarta-feira - (18/9)

Curitiba, 18 de setembro de 2024.

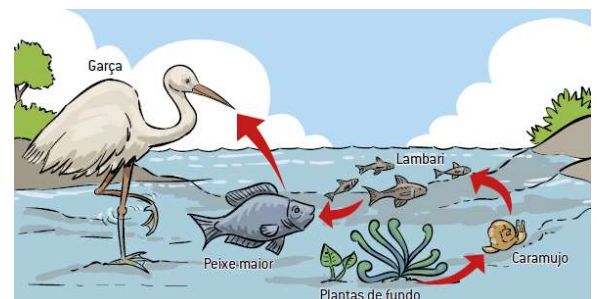
1) Crie uma sentença que contenha: onde e aonde, um verbo e um pronome.

Quinta-feira – (19/9) – Ciências

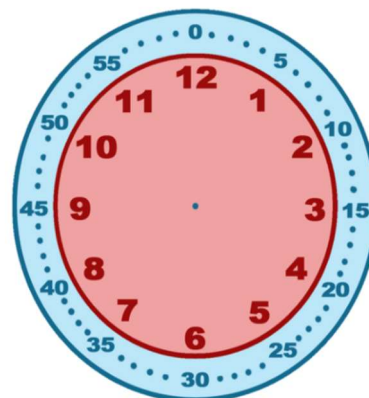
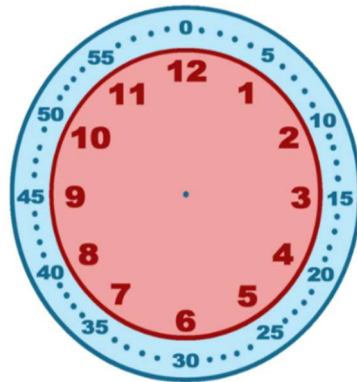
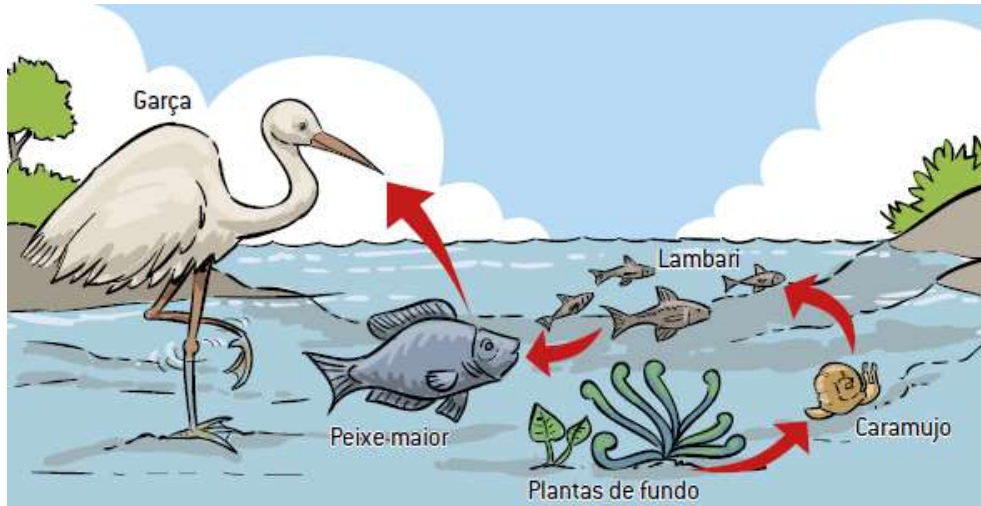
Curitiba, 19 de setembro de 2024.

1) Observe a seguinte cadeia alimentar aquática, cole-a em seu caderno e depois responda o que se pede.

- Qual é o consumidor primário?
- Qual elemento está ocupando o quinto nível trófico?
- O caramujo serve de alimento para quem?



Sexta-feira – (20/9) – Ensino Religioso



Onde



Usado com verbos que indicam ideia de lugar, que indicam permanência.

Exemplo: onde ela está.

Aonde



Usado com verbos que indicam movimento.

Exemplo: Aonde ela foi?