

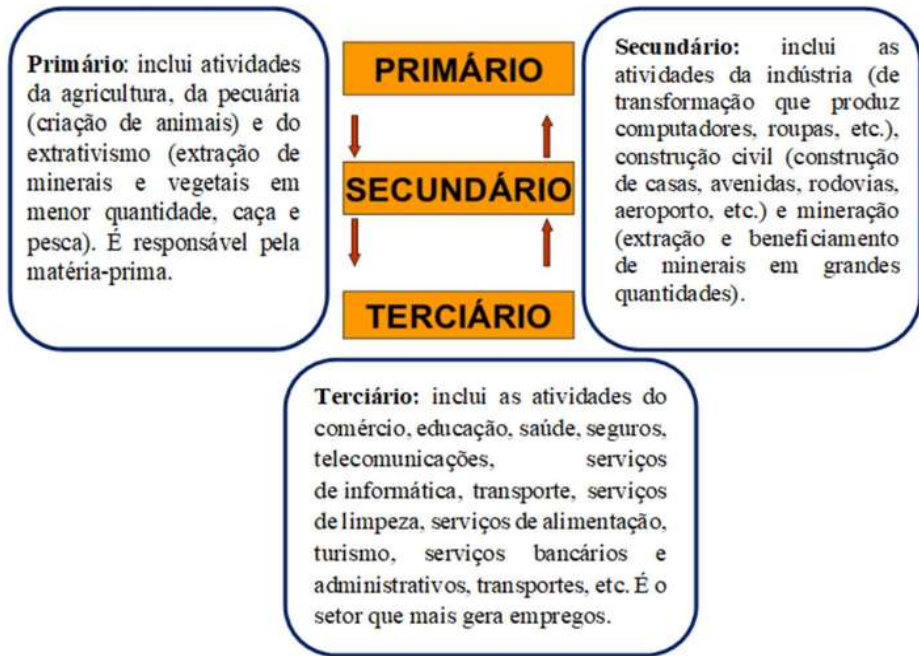
GUIA DE ESTUDOS – 5º ANO DO ENSINO FUNDAMENTAL Semana de 28 de outubro a 1º de novembro

Língua Portuguesa	Inglês	Matemática	Geografia/História		
Tema: Revisão e interpretação	Tema: Illness	Tema: Problemas	Tema: Características econômicas do Brasil		
<p>Leia o texto e cole em seu caderno para responder as questões.</p> <p>Para casa:</p> <p>1) O que deixou o ar cheiroso?</p> <p>2) Encontre no texto duas palavras no diminutivo, depois escreva o aumentativo dessas palavras.</p> <p>3) Você conhece uma das árvores citadas no texto? Comente sobre.</p> <p>Para: Terça-feira, dia 29/10</p> <p>Para casa:</p> <p>1) Como se chama a árvore que parece o sol?</p> <p>2) Passe o trecho abaixo para o <u>futuro</u>.</p> <p>“Do lado esquerdo do quintal havia uma grande árvore. Era um ipê amarelo carregado de flores. Do outro lado, um limoeiro perfumava tudo com seus botõezinhos de flores entreabertos. Havia bem-te-vi e borboletas malucas dançando no ar, e também um colibri com o biquinho comprido sobre a rosa aberta.”</p> <p>Para: Quinta-feira, dia 31/10</p>	<p>Homework:</p> <p>Do the exercises 1, 2 and 3, on page, 80 in the English Book. (Fazer os exercícios 1, 2 e 3, da página 80 no livro de Língua Inglesa.)</p> <p>For: 5ºM: Friday, 1º/11 5ºT: Wednesday, 30/10</p>	<p>Para casa:</p> <p>1) Há 4230 parafusos para serem distribuídos em embalagens com 10, 100 e 1000 unidades. Quantas embalagens haverá de cada tipo?</p> <p>2) A mãe de Francisco fez 50 maçãs do amor a R\$ 3,00 cada unidade e 100 pedaços de bolo R\$ 4,00 unidade. Todos esses doces foram vendidos. Quanto foi arrecadado com a venda dos doces?</p> <p>3) Debora tem uma banca de frutas na feira. Ela quer vender 1116 laranjas em dúzias.</p> <p>a) Quantas dúzias serão formadas?</p> <p>b) Se todas as dúzias de laranjas forem vendidas a R\$ 2,00 cada uma, quanto Debora lucrará?</p> <p>Para: Quarta-feira, dia 30/10</p> <p>Para casa: Observe a planta que Gabriel fez de sua residência. Cole em seu caderno.</p> <p>Para fazer essa representação, Gabriel considerou cada centímetro na planta, correspondente a 1 metro na realidade. Utilizando uma régua, determine as medidas indicadas por a e b, em metros. Calcule o perímetro do quarto ao lado da cozinha. Calcule a área da cozinha e banheiro.</p> <p>Para: Sexta-feira, dia 1º/11</p>	<p>Para casa: Leia o texto e cole em seu caderno.</p> <p>1) O que são as atividades econômicas?</p> <p>2) Faça uma breve pesquisa em sua casa com os adultos e descubra em quais setores da economia eles trabalham, exemplifique.</p> <p>3) Desenhe um exemplo de cada setor.</p> <p>Para: Terça-feira, 29/10</p>		
	Arte				Ensino Religioso
	<p>Tema: Técnica de desenho- texturas gráficas</p> <p>Para casa: Realize a atividade conforme a folha anexada! Para entregar na aula de artes.</p> <p>Para: Quinta-feira, 31/10</p>				<p>Tema: Acolher as pessoas</p> <p>Para casa: Ler e responder a atividade do anexo.</p> <p>Para: Segunda-feira, 28/10</p>
			Ciências		
			<p>Tema: Hábitos saudáveis e qualidade de vida</p> <p>Para casa:</p> <p>1) Levando em consideração os hábitos saudáveis, pinte na tabela abaixo quantas vezes por semana você tem o hábito de realizar essas práticas. Cole em seu caderno.</p> <p>a) O que você costuma fazer quando tem um tempo em família?</p> <p>b) De acordo com o que você preencheu, você se considera uma pessoa saudável? Teria algo que gostaria de mudar? Por quê?</p> <p>Para: 5ºM quarta-feira, 30/10 5ºT sexta-feira, 1º/11</p>		

Deixou de apresentar as lições do guia de _____ da semana anterior.
Assinatura dos pais ou responsável _____

Anexo de História

Os setores econômicos podem mostrar o grau de desenvolvimento de um país ou região. Todas as atividades desenvolvidas pelo ser humano para aquisição de um produto, bens, e serviços destinados a atender às necessidades e desejos da sociedade são atividades econômicas. A economia tem como base a produção, distribuição, e consumo de bens e serviços. As atividades econômicas realizadas pelas pessoas costumam ser divididas em setores:



Anexo de Ciências

Hábitos saudáveis	Segunda-feira	Terça-feira	Quarta-feira	Quinta-feira	Sexta-feira	Sábado	Domingo
Alimentação equilibrada							
Atividades físicas							
Dormir bem							
Lazer							
Tempo para você							
Tempo com família/amigo							

Matemática



Anexo de Português

Repare bem, é primavera!

Acordei cedo e logo senti um cheiro bom no ar da manhã.

– Mãe, que cheirinho bom é esse?

Minha mãe me chamou para a janela do quarto que dava para o quintal e disse:

– Olhe só!

Olhei. Que maravilha! Do lado esquerdo do quintal havia uma grande árvore parecendo um Sol. Era um ipê amarelo carregado de flores. Do outro lado, um limoeiro perfumava tudo com seus botõezinhos de flores entreabertos. Havia bem-te-vi e borboletas malucas dançando no ar, e vi também um colibri com o biquinho comprido sobre a rosa aberta, suas asinhas tremiam.

Minha mãe disse:

– Repare bem, é a primavera!

Curitiba, _____ de _____ de 2024.


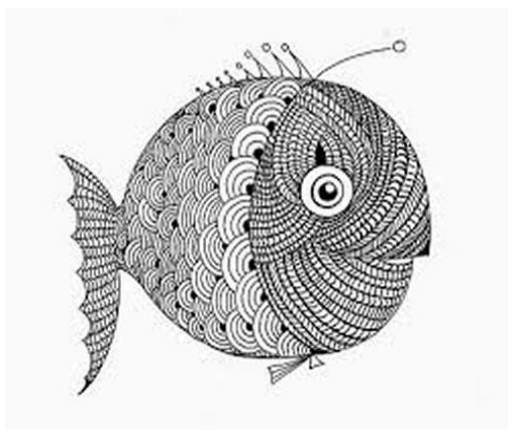
Nome: _____

Artes - Técnica de desenho - texturas gráficas

Para acompanhar nosso trabalho de texturas (impressão e estêncil) de sala de aula vamos aprender mais sobre as texturas gráficas?

Nestas duas obras - **O peixe**, da artista Goretti Varella, e **O Rinoceronte**, de Albrecht Durer - a superfície é trabalhada com **textura gráfica**. As texturas são os efeitos que podemos dar a um desenho com o uso de pequenos **pontos, linhas, traços e formas repetidas**, colocadas a uma mesma distância uma da outra, ou em distâncias variadas, criando padrões, o que dá uniformidade ou irregularidade à imagem criada.

A textura pode ser utilizada em um desenho para realçar a realidade do objeto que está sendo desenhado ou para criar efeitos artísticos.



Veja alguns exemplos de texturas gráficas em preto e branco e colorido.

É muito legal, não é mesmo?



Agora, no espaço abaixo, crie uma composição artística utilizando a textura gráfica:

1) Você pode desenhar sua mão numa folha e preencher com textura gráfica, utilizando um material colorido (que pode ser lápis de cor, hidrocor ou giz de cera), e preencher o fundo com textura gráfica na cor preta. O uso de diferentes cores é apenas sugestão. Você pode usar livremente, como preferir!

2) Para se inspirar, pode consultar os exemplos de textura gráfica da página anterior.

3) Também pode substituir o desenho da mão por outro de sua preferência.

