






Lições de casa – 34ª semana – 2º ano
Matemática e História




Segunda-feira - (18/11)


Curitiba, 18 de novembro de 2024.

- 1) Complete as adições e multiplicações seguindo o exemplo:
Cole o anexo em seu caderno.

Example:  $3 + 3 = 6$
 $2 \times 3 = 6$

 $_ + _ + _ = _$
 $_ \times _ = _$


 $_ + _ + _ + _ = _$
 $_ \times _ = _$


 $_ + _ + _ + _ + _ = _$
 $_ \times _ = _$

Terça-feira - (19/11)

Curitiba, 19 de novembro de 2024.

- 1) Nina e Luna estavam preenchendo o álbum de adesivos. Elas colaram **1345** na segunda-feira e **3897** na terça-feira. Quantos adesivos as irmãs colaram ao fim dos dois dias?

- 2) Escreva os números que aparecem no exercício anterior em ordem crescente.

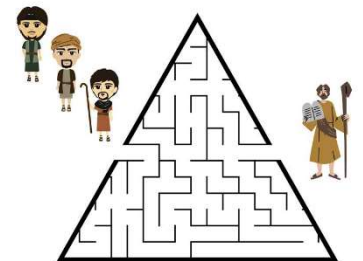
Quarta-feira - (20/11) – Feriado

Quinta-feira – (21/11) – História

Curitiba, 21 de novembro de 2024.

Os Hebreus assim como outros povos também eram nômades, ou seja, não moravam fixos em um só lugar, pois procuravam comida, água e terra boa para viver. O primeiro lugar onde se fixaram foi a Palestina. Mas, eles tiveram de passar por muitos outros lugares até conquistá-la definitivamente. Para fazer esses diferentes caminhos, eles contaram com a ajuda de alguns líderes. Os principais líderes do povo hebreu eram **Abraão e Moisés** e ficaram conhecidos como **patriarcas**. Moisés liderou a saída dos hebreus do Egito, depois de eles terem lá vivido por 400 anos como escravos. A fuga do Egito ficou conhecida como **Êxodo**, que significa **saída**.

- 1) Como ficou conhecida a fuga do povo Hebreu do Egito, e quem foi responsável pela sua libertação?
2) Ajude os Hebreus encontrar Moisés. Cole o anexo em seu caderno.



Sexta-feira – (22/11) – Ensino Religioso

**Lições de casa – 34ª semana – 2º ano
Língua Portuguesa e Ciências**

Segunda-feira - (18/11)

Curitiba, 18 de novembro de 2024.

Leia o relato pessoal, extraído do livro Diário de Pilar na Grécia.

Coisas que meu avô contou sobre os centauros
 Seres metade
 cavalo, metade homem
 Acho que não
 existem centauros.
 Alguns são mansos,
 outros, violentos.
 Adoram vinho.
 Um famoso centauro
 chamado Quiron virou
 uma bela constelação
 quando morreu.

Diário de Pilar na Grécia, de Flávia Lins e Silva. Rio de Janeiro: Pequena Zahar, 2010.



constelação: grupo de estrelas.

- 1) O que é uma constelação?
- 2) Coloque os símbolos gramaticais na frase a seguir:

Um famoso centauro virou uma bela constelação.

- | | |
|--------------------|--------------------|
| a) a ____ aí | g) gra ____ a |
| b) bra ____ o | h) li ____ ão |
| c) ____ ebola | i) bi ____ icleta |
| d) di ____ ionário | j) ca ____ amba |
| e) feiti ____ o | k) feiti ____ eira |
| f) ca ____ ula | l) su ____ uarana |

Terça-feira - (19/11)

Curitiba, 19 de novembro de 2024.

- 1) Coloque as frases no singular.
 - a) Os centauros são mansos.
 - b) Os gregos acreditam em mitos.
- 2) Complete as palavras com C ou Ç.

Quarta-feira - (20/11) - Feriado

Quinta-feira – (21/11) – Ciências

Curitiba, 21 de novembro de 2024.


- 1) Recorte e cole a tabela de vertebrados e invertebrados segundo a classificação de cada animal.
- a) Classifique os animais vertebrados em peixes, anfíbios, répteis, aves e mamíferos.

VERTEBRADOS	INVERTEBRADOS
Possuem coluna vertebral	Não possuem coluna vertebral




Sexta-feira – (22/11) – Ensino Religioso


- a) a ____ aí g) gra ____ a
- b) bra ____ o h) li ____ ão
- c) ____ ebola i) bi ____ icleta
- d) di ____ ionário j) ca ____ amba
- e) feiti ____ o k) feiti ____ eira
- f) ca ____ ula l) su ____ uarana





VERTEBRADOS	INVERTEBRADOS
Possuem coluna vertebral	Não possuem coluna vertebral



Example:  $3 + 3 = 6$
 $2 \times 3 = 6$

 $_ + _ + _ = _$
 $_ \times _ = _$

 $_ + _ + _ + _ = _$
 $_ \times _ = _$

 $_ + _ + _ + _ + _ = _$
 $_ \times _ = _$