




Lições de casa – 15ª semana – 5º ano
Língua Portuguesa

Leia o texto

Rio Sena é liberado para banho após 100 anos

Um dos rios mais famosos do mundo estava fechado para natação desde 1920, quando a água foi considerada poluída demais para banho



Entre os dias 5 de julho e 31 de agosto, o rio Sena, em Paris (capital da França), ficará liberado para natação pela primeira vez em um século. A novidade é resultado de um ambicioso projeto da prefeitura da cidade de despoluição que investiu cerca de 1,4 bilhão de euros (cerca de 9 bilhões de reais). Três trechos do rio estarão abertos ao público, permitindo que mais de mil pessoas possam nadar em suas águas.

Nos anos 1920, o banho no Sena foi proibido em virtude da poluição excessiva. Desde então, as águas do rio serviam

apenas para transporte. Agora, com a liberação, um dos cursos d'água mais famosos do mundo volta a ser espaço de lazer: a natação será permitida em áreas preparadas com chuveiros, sinalização com bandeiras indicando os locais seguros e apoio de salva-vidas. O projeto estava previsto para ficar pronto para a Olimpíada de 2024. Na época, a prefeita Anne Hidalgo mergulhou nas águas do rio para provar a segurança de se realizar provas de natação no local. Mesmo assim, diversos atletas questionaram as condições das águas e até se recusaram a participar das competições. Houve casos de nadadores que adoeceram após entrar no Sena, embora não tenha sido confirmada uma relação direta com a água do rio. Nessa reabertura, a água será monitorada todos os dias, para garantir a segurança dos banhistas. O vice-prefeito de Paris, Pierre Rabadan, garantiu que a água está segura para uso. "Obviamente, se estamos abrindo a área para banho, é porque a qualidade da água está em conformidade com os regulamentos", afirmou. A abertura acontece na época de um dos verões mais quentes da Europa. Até mesmo a Torre Eiffel, símbolo da cidade, teve que ser fechada em função dos termômetros próximos dos 43°C. Além da temperatura, as férias escolares convidam os jovens a aproveitar o rio e atividades ao ar livre.

<https://g1.globo.com/mundo/noticia/2025/07/04/paris-volta-a-permitir-banho-no-rio-sena-depois-de-100-anos.ghtml>

Segunda-feira - (1º/6)

Curitiba, 1º de junho de 2026.

- 1) Quando e por que o banho no Rio Sena foi proibido?
- 2) O que foi feito para que o Rio Sena pudesse voltar a ser usado para natação?
- 3) Escreva os sujeitos das frases:

a) "A água será monitorada todos os dias."

SUJEITO:

b) "Diversos atletas questionaram as condições das águas."

SUJEITO:

c) "As férias escolares convidam os jovens a aproveitar o rio."

SUJEITO:

COLÉGIO NOSSA SENHORA DE SION

Terça-feira - (2/6)

Curitiba, 2 de junho de 2026.

- 1) Qual é a função dos chuveiros, bandeiras e salva-vidas instalados nas áreas de banho?
- 2) Cite dois fatores que incentivam a população a aproveitar o rio nesta reabertura.
- 3) O que alguns atletas fizeram em relação às competições de natação no Sena e qual foi o motivo?
- 4) De acordo com o vice-prefeito Pierre Rabadan, por que a água foi liberada para banho?

Quarta-feira - (3/6)

Curitiba, 3 de junho de 2026.

- 1) Quantos trechos do rio foram liberados para o público e quantas pessoas poderão nadar?
- 2) Por que a prefeita de Paris, Anne Hidalgo, mergulhou nas águas do rio?
- 3) Leia os advérbios abaixo, retirados ou inspirados no texto *Rio Sena é liberado para banho após 100 anos*, e classifique-os na tabela. Cole o anexo em seu caderno.

ADVÉRBIOS:

agora – desde então - lá - obviamente – diretamente – mais – talvez - possivelmente – sim – realmente
- não – nem

Tempo	Lugar	Modo	Intensidade	Dúvida	Afirmação	Negação



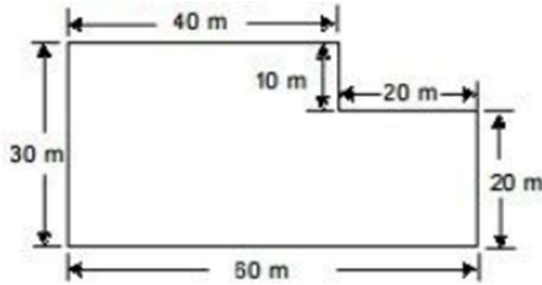
Lições de casa – 15ª semana – 5º ano
Matemática

Segunda-feira - (1º/6)

Curitiba, 1º de junho de 2026.

Copie e responda:

Amanda comprou um terreno para construir sua nova casa. Ela pretende colocar arame cercado o terreno cujas medidas estão representadas na figura a seguir.



- Quantos metros de cerca serão necessários para contornar o terreno?
- Qual será o custo da obra se o cada metro de cerca custa R\$ 13,00?

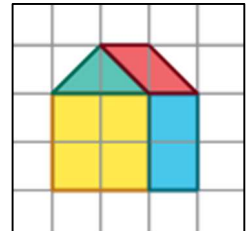
Terça-feira - (2/6)

Curitiba, 2 de junho de 2026.

Copie e responda:

Em uma gincana da escola, uma das provas é reproduzir um desenho em uma malha quadriculada. Caio recebeu o desenho a seguinte instrução:

- Faça uma ampliação do desenho com o triplo da medida de comprimento dos lados correspondentes



Quarta-feira - (3/6)

Curitiba, 3 de junho de 2026.

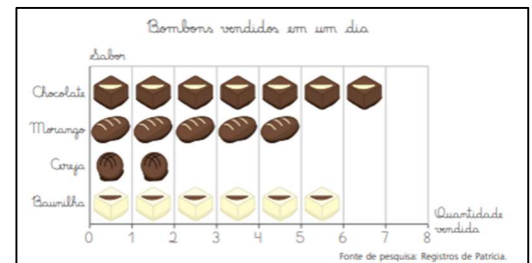
Copie e responda:

Patrícia construiu um gráfico para representar a quantidade de bombons que ela vendeu em um dia.

- Em relação à quantidade total, que fração representa a quantidade vendida de bombons de:

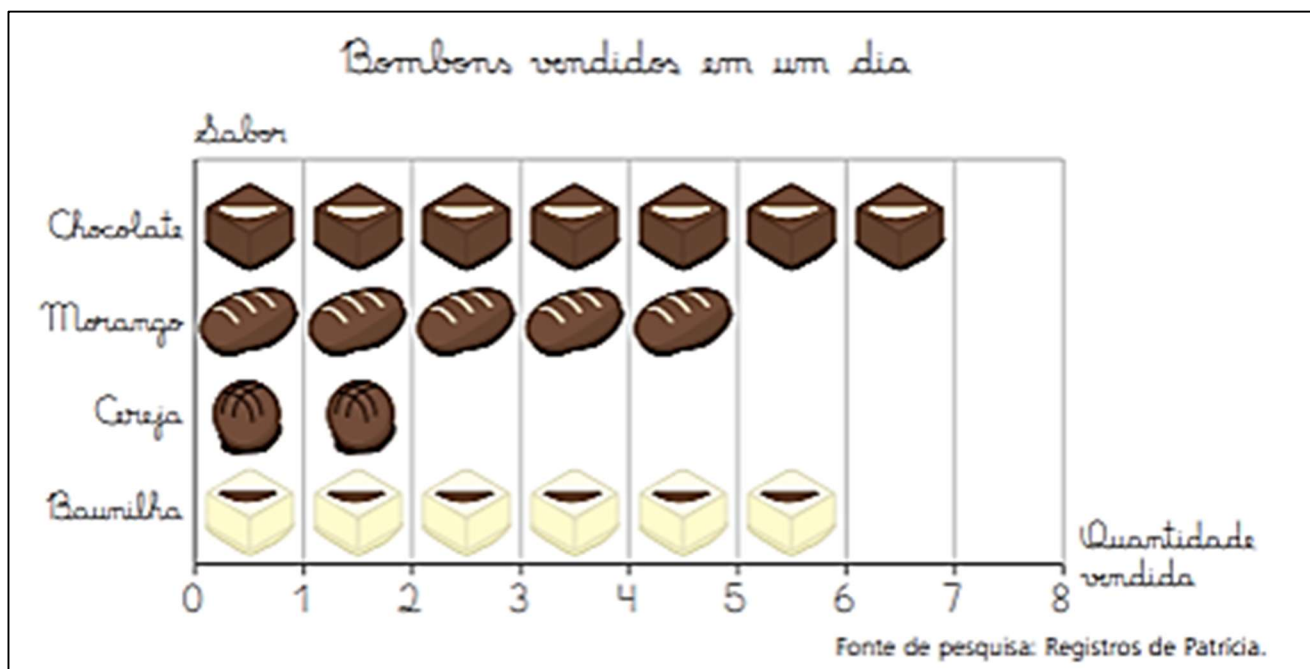
- Chocolate?
- Morango?
- Baunilha?
- Cereja?

- Escreva as frações do item anterior em ordem crescente.
- Cole o anexo em seu caderno.



COLÉGIO NOSSA SENHORA DE SION

Anexos:



Tempo	Lugar	Modo	Intensidade	Dúvida	Afirmação	Negação

