



Lições de casa – 17ª semana – 4º ano
Língua Portuguesa e História

Leia e cole em seu caderno o texto para as lições da semana:

Segunda-feira - (15/6)

Curitiba, 15 de junho de 2026.

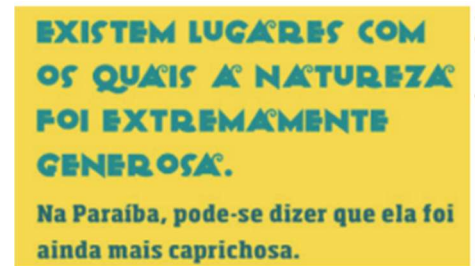
- 1) Qual é o objetivo deste anúncio?
- 2) Qual é a importância do uso das imagens para a construção deste anúncio?
- 3) A que público se dirige o anúncio? Copie apenas a resposta correta.
 - a) Turistas e pessoas que estão procurando um destino para viajar nas férias.
 - b) Aos moradores da Paraíba que desejam conhecer a história da cidade.
 - c) Aos pescadores que trabalham nas praias da Paraíba.
 - d) Aos estudantes que pretendem conhecer a geografia brasileira.



Terça-feira - (16/6)

Curitiba, 16 de junho de 2026.

- 1) Releia o trecho destacado:
 - a) A quem se refere a palavra “**ela**”?
 - b) Qual é a classe gramatical da palavra “natureza”? Utilize um adjetivo para descrever a natureza deste local, diferente da utilizada no texto.
 - d) Qual a classe gramatical da palavra “generosa”? De qual substantivo essa palavra deriva?



Quarta-feira - (17/6)

Curitiba, 17 de junho de 2026.

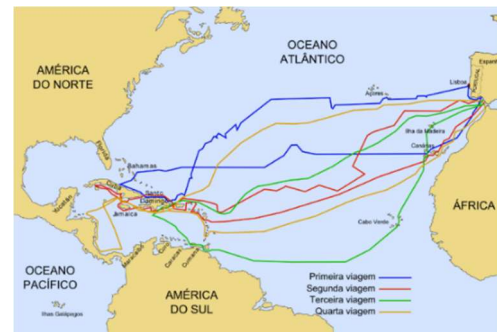
- 1) Este anúncio te fez sentir vontade de visitar a Paraíba? Por quê?
- 2) Faça a análise morfológica com os símbolos gramaticais na sentença a seguir, exceto nas palavras em destaque.
Com mar verde **no** verão e águas quentes **mesmo** no inverno.

Quinta-feira - (18/6) - Geografia

Curitiba, 18 de junho de 2026.

- 1) Leia o texto com atenção. **A viagem de Cristóvão Colombo**

O destino inicial da viagem de Cristóvão Colombo era as Índias, onde ele esperava encontrar uma nova rota comercial para ouro e especiarias. No entanto, ele acabou chegando à atual América Central em outubro de 1492, acreditando que havia alcançado seu objetivo.



Cole o mapa em seu caderno e com base no texto sobre a viagem de Cristóvão Colombo, responda:

- a) Qual era o destino inicial de sua viagem? Aonde ele realmente chegou?
- 3) Pense nas aulas em que conversamos sobre o Tratado de Tordesilhas ou consulte seu caderno de estudos.
 - a) Explique com suas palavras o que era esse tratado e qual era sua finalidade.

Sexta-feira - (19/6) – Ensino Religioso



Lições de casa – 17ª semana – 4º ano
Matemática e Ciências

Segunda-feira - (15/6)

Curitiba, 15 de junho de 2026.

1) Leia com atenção e cole o anexo em seu caderno.

As frações apresentam numerador e denominador. Veja:

$$\frac{2}{5} \text{ - Numerador}$$

$$\frac{2}{5} \text{ - Denominador}$$

Quais dessas frações são terços?	$\frac{1}{3}$	$\frac{3}{1}$	$\frac{2}{3}$	$\frac{3}{5}$	$\frac{3}{4}$	$\frac{3}{3}$
Quais dessas frações são quartos?	$\frac{1}{4}$	$\frac{1}{3}$	$\frac{4}{3}$	$\frac{4}{2}$	$\frac{3}{4}$	$\frac{2}{4}$
Quais dessas frações são quintos?	$\frac{1}{5}$	$\frac{2}{5}$	$\frac{5}{7}$	$\frac{3}{5}$	$\frac{5}{8}$	$\frac{4}{5}$
Quais dessas frações são sétimos?	$\frac{1}{7}$	$\frac{2}{7}$	$\frac{7}{2}$	$\frac{7}{8}$	$\frac{3}{7}$	$\frac{5}{7}$
Quais dessas frações são oitavos?	$\frac{1}{8}$	$\frac{8}{9}$	$\frac{3}{8}$	$\frac{8}{2}$	$\frac{4}{8}$	$\frac{7}{8}$

2) Circule o que é solicitado em cada situação.

3) Copie as frases e depois escreva a fração sublinhada em cada situação com algarismos.

a) O Ramain durou um quarto de hora. Fração:

b) Tomei meio copo de suco no lanche. Fração:

c) Dois terços da turma brincaram de esconde-esconde na hora do parque. Fração:

d) Corri quatro quintos do percurso total da quadra. Fração:

Terça-feira - (16/6)

Curitiba, 16 de junho de 2026.

1) Copie e resolva. Registre os cálculos em seu caderno.

a) $200 - 34 \times 4 - 32 : 8 =$

Dica: lembre-se de que devemos começar resolvendo a multiplicação ou a divisão, na ordem que aparecer; depois a soma ou a subtração, na ordem que aparecer.

Quarta-feira - (17/6)

Curitiba, 17 de junho de 2026.

1) Miguel coleciona figurinhas e tem **36** repetidas que decidiu distribuir igualmente entre seus quatro amigos. Quantas figurinhas cada amigo de Miguel recebeu?

2) Isabella comprou três canetas novas. Se cada uma das canetas custou R\$ 5,60, quanto Isabella gastou comprando todas as canetas?

a) Se ela pagou por sua compra com uma cédula de R\$ 20,00, quanto recebeu de troco?

Quinta-feira - (18/6) - Ciências

Curitiba, 18 de junho de 2026.

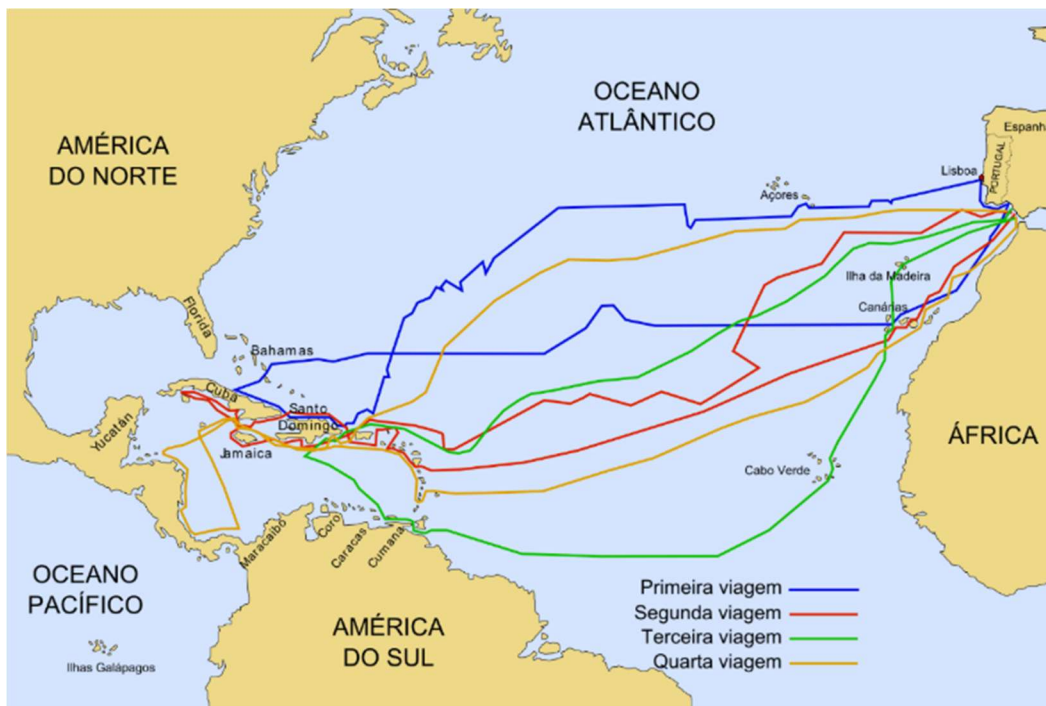
Veja o cartaz a seguir sobre como se prevenir contra as verminoses. Cole em seu caderno.

1) Você acha que pessoas em situação de vulnerabilidade, vivendo em ambientes com falta de saneamento básico, sem acesso a higiene adequada possuem mais chances de serem contaminadas por essas doenças? Explique.



Sexta-feira - (19/6) – Ensino Religioso

COLÉGIO NOSSA SENHORA DE SION



COMO SE PROTEGER DE VERMINOSES



Lavar bem as mãos antes e depois de ir ao banheiro



Higienizar e cozinhar bem os alimentos



Não mergulhar em locais que possam estar contaminados com esgoto



Evitar andar descalço em terrenos úmidos



Ter acesso ao sistema de saneamento básico em sua moradia



Consumir apenas água filtrada ou fervida



Quais dessas frações são terços?	$\frac{1}{3}$,	$\frac{3}{1}$,	$\frac{2}{3}$,	$\frac{3}{5}$,	$\frac{3}{4}$,	$\frac{3}{3}$
Quais dessas frações são quartos?	$\frac{1}{4}$,	$\frac{1}{3}$,	$\frac{4}{3}$,	$\frac{4}{2}$,	$\frac{3}{4}$,	$\frac{2}{4}$
Quais dessas frações são quintos?	$\frac{1}{5}$,	$\frac{2}{5}$,	$\frac{5}{7}$,	$\frac{3}{5}$,	$\frac{5}{8}$,	$\frac{4}{5}$
Quais dessas frações são sétimos?	$\frac{1}{7}$,	$\frac{2}{7}$,	$\frac{7}{2}$,	$\frac{7}{8}$,	$\frac{3}{7}$,	$\frac{5}{7}$
Quais dessas frações são oitavos?	$\frac{1}{8}$,	$\frac{8}{9}$,	$\frac{3}{8}$,	$\frac{8}{2}$,	$\frac{4}{8}$,	$\frac{7}{8}$



PARAÍBA

EXISTEM LUGARES COM OS QUAIS A NATUREZA FOI EXTREMAMENTE GENEROSA.

Na Paraíba, pode-se dizer que ela foi ainda mais caprichosa.

Paraíba, encantadora por natureza: www.destinoparaiba.com.br

Aqui você encontra praias urbanas ou paisagens paradisíacas, com mar verde no verão e águas quentes mesmo no inverno. E também cenários belíssimos de vales e serras com rico patrimônio arquitetônico e histórico, fantásticos para a prática de aventuras ecológicas. Sossego, tranquilidade, agito ou curtidão. Na Paraíba você encontra o melhor cenário para suas férias serem inesquecíveis.



GOVERNO DA PARAÍBA

Secretaria de Turismo e Desenvolvimento Econômico